



# 長さのたんい 5

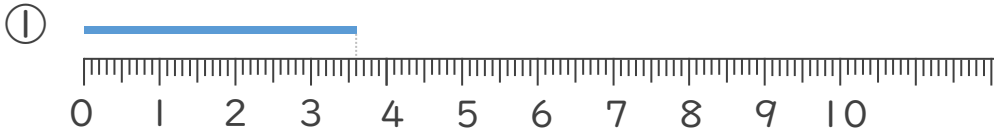
● ミリメートル



日にち：            月            日

名まえ \_\_\_\_\_

1 線の長さは何cm何mmでしょう。(うすい字はなぞりましょう。)



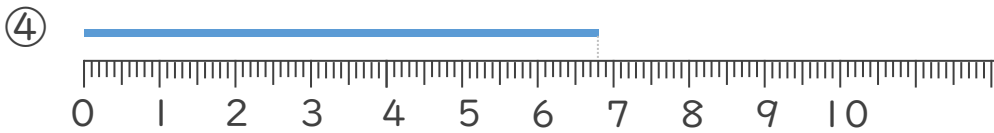
答え ( 3 cm 6 mm )



答え (      cm      mm )



答え (                      )



答え (                      )





# 長さのたんい 5

● ミリメートル



日にち：            月            日

名まえ \_\_\_\_\_

1 線の長さは何cm何mmでしょう。(うすい字はなぞりましょう。)



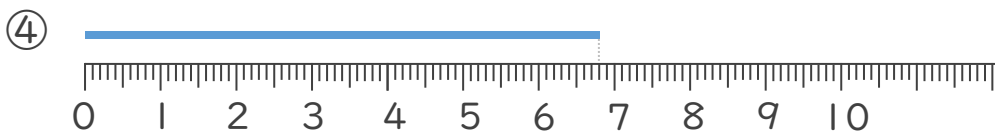
答え ( 3 cm 6 mm )



答え ( 4 cm 3 mm )



答え ( 3 cm 5 mm )



答え ( 6 cm 8 mm )

