



水のかさ 3

リットル

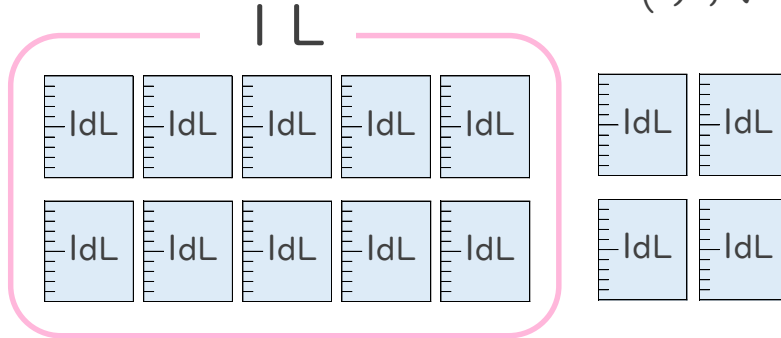


日にち： 月 日

名まえ _____

1 つぎの ペットボトルに入る 水のかさを しらべましょう。

(うすい字はなぞりましょう。)



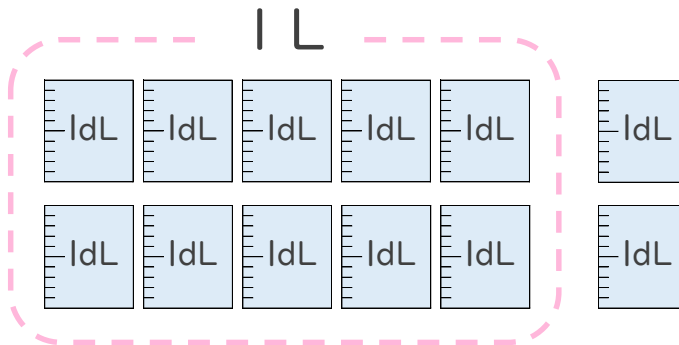
① ペットボトルに入る 水のかさは、何dLですか。

答え： 14dL

② ペットボトルに入る 水のかさは、何L何dLですか。

答え： 1 L 4 dL

2 つぎの ペットボトルに入る 水のかさを しらべましょう。



① ペットボトルに入る 水のかさは、何dLですか。

答え： _____

② ペットボトルに入る 水のかさは、何L何dLですか。

答え： _____





水のかさ 3

リットル

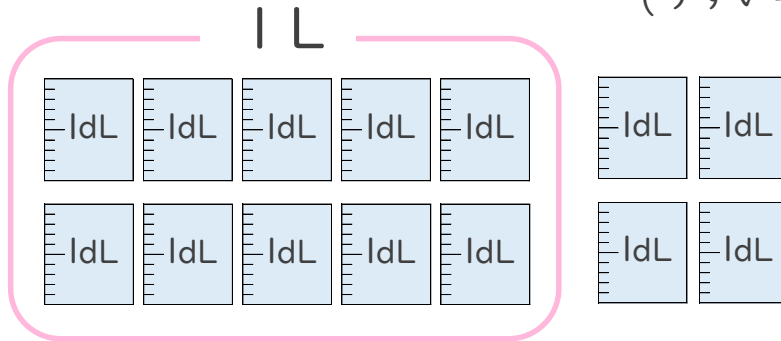


日にち： 月 日

名まえ _____

1 つぎのペットボトルに入る水のかさをしらべましょう。

(うすい字はなぞりましょう。)



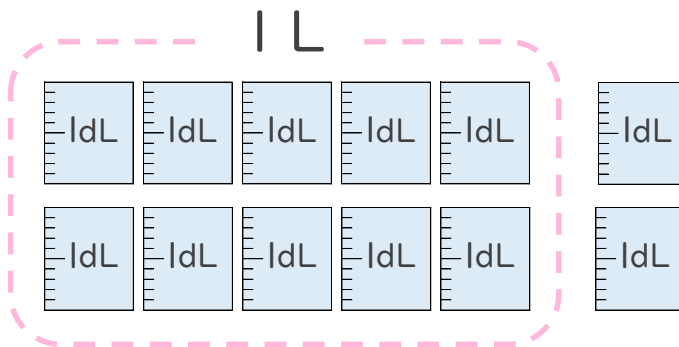
① ペットボトルに入る水のかさは、何dLですか。

答え： 14dL

② ペットボトルに入る水のかさは、何L何dLですか。

答え： 1 L 4 dL

2 つぎのペットボトルに入る水のかさをしらべましょう。



① ペットボトルに入る水のかさは、何dLですか。

答え： 12dL

② ペットボトルに入る水のかさは、何L何dLですか。

答え： 1 L 2 dL

