



## かけ算 26

● リボンの2ばいの長さ

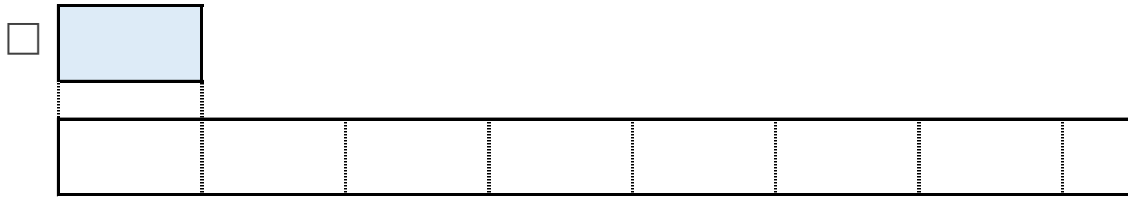


日にち：            月            日

名まえ \_\_\_\_\_

1 ㊦のリボンの6ばいの長さをもとめましょう。

① □のリボンの6ばいの長さに色をぬりましょう。



② ㊦のリボンの長さは、4cmです。


①でぬったところの長さは何cmですか。

しき：

答え： \_\_\_\_\_

2 ㊧のリボンの5ばいの長さをもとめましょう。

① □のリボンの5ばいの長さに色をぬりましょう。



② ㊧のリボンの長さは、6cmです。

①でぬったところの長さは何cmですか。

しき：

答え： \_\_\_\_\_





## かけ算 26

● リボンの2ばいの長さ

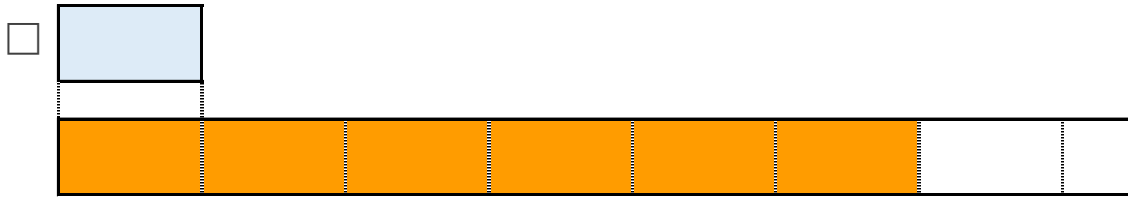


日にち：            月            日

名まえ \_\_\_\_\_

1 ㉗のリボンの6ばいの長さをもとめましょう。

① □のリボンの6ばいの長さに色をぬりましょう。



② ㉗のリボンの長さは、4cmです。


①でぬったところの長さは何cmですか。

$$\text{しき} : 4 \times 6 = 24$$

答え： 24cm

2 ㉘のリボンの5ばいの長さをもとめましょう。

① □のリボンの5ばいの長さに色をぬりましょう。



② ㉘のリボンの長さは、6cmです。

①でぬったところの長さは何cmですか。

$$\text{しき} : 6 \times 5 = 30$$

答え： 30cm

