



分数7

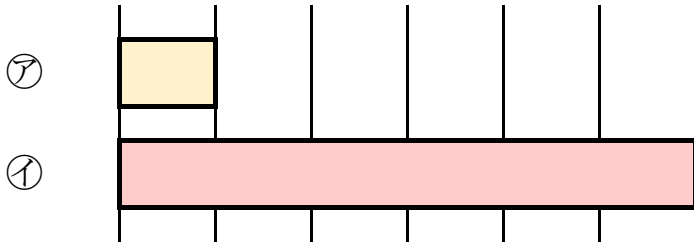
何倍？何分のー？



日にち： 月 日

名まえ _____

1 つぎの図を見てもんだいに答えましょう。(うすい字はなぞろう。)



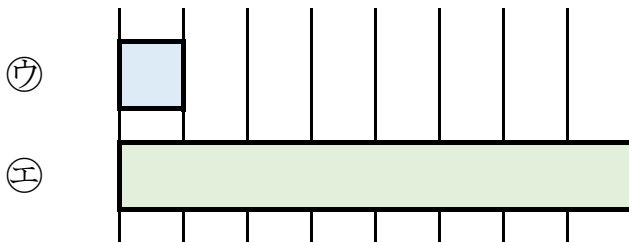
① 下の①のテープの長さは、②のテープの長さの何ばいですか。

答え： 6ばい

② 上の②のテープの長さは、①のテープの長さの何分のーですか。

答え： _____

2 つぎの図を見てもんだいに答えましょう。



① 下の①のテープの長さは、②のテープの長さの何ばいですか。

答え： _____

② 上の②のテープの長さは、①のテープの長さの何分のーですか。

答え： _____



分数7

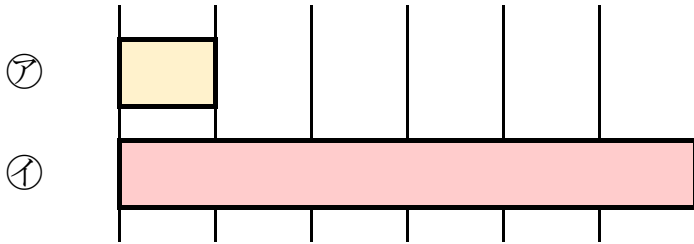
何倍？何分のー？



日にち： 月 日

名まえ _____

1 つぎの図を見てもんだいに答えましょう。（うすい字はなぞろう。）



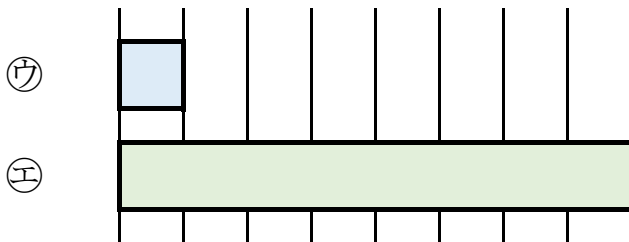
① 下の①のテープの長さは、②のテープの長さの何ばいですか。

答え： 6 ばい

② 上の②のテープの長さは、①のテープの長さの何分のーですか。

答え： $\frac{1}{6}$

2 つぎの図を見てもんだいに答えましょう。



① 下の①のテープの長さは、②のテープの長さの何ばいですか。

答え： 8 ばい

② 上の②のテープの長さは、①のテープの長さの何分のーですか。

答え： $\frac{1}{8}$