



分数5

◎ 同じ長さに分けた
テープの1つ分の長さ



日にち： 月 日

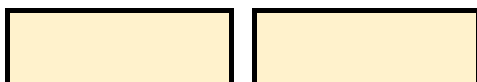
名まえ

・ つぎのもんだいに答えましょう。(うすい字はなぞりましょう。)

① 同じ長さになるように、テープを2つに分けました。

分けた1つ分の長さは、もとの長さの何分の一ですか。

もとの長さ

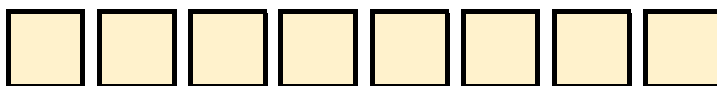


答え：
 $\frac{1}{2}$

② 同じ長さになるように、テープを8つに分けました。

分けた1つ分の長さは、もとの長さの何分の一ですか。

もとの長さ



答え：



分数5

● 同じ長さに分けた
テープの1つ分の長さ



日にち： 月 日

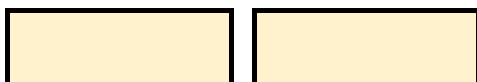
名まえ

・ つぎのもんだいに答えましょう。(うすい字はなぞりましょう。)

① 同じ長さになるように、テープを2つに分けました。

分けた1つ分の長さは、もとの長さの何分の一ですか。

もとの長さ



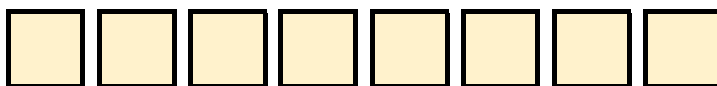
答え：

$\frac{1}{2}$

② 同じ長さになるように、テープを8つに分けました。

分けた1つ分の長さは、もとの長さの何分の一ですか。

もとの長さ



答え：

$\frac{1}{8}$
