



## 長方形と正方形 7



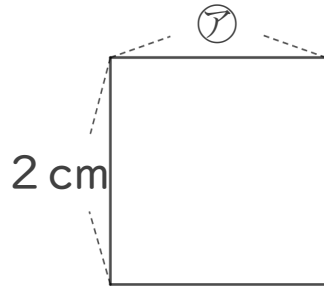
◎ 正方形のまわりの長さ

日にち： 月 日

名まえ \_\_\_\_\_

1 下の形は正方形です。つぎのもんだいに答えましょう。

(うすい字はなぞろう。)



① アのへんの長さは、何cmですか。

答え： 2 cm

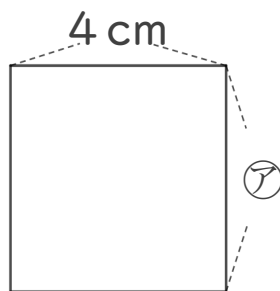
② この正方形のまわりの長さは何cmですか。

$$\text{しき： } 2 + 2 + 2 + 2 =$$

答え： \_\_\_\_\_

2 下の形は正方形です。つぎのもんだいに答えましょう。

(うすい字はなぞろう。)



① アのへんの長さは、何cmですか。

答え： \_\_\_\_\_

② この正方形のまわりの長さは何cmですか。

$$\text{しき： } 4 + 4 + 4 + 4 =$$

答え： \_\_\_\_\_



# 長方形と正方形 7

◎ 正方形のまわりの長さ

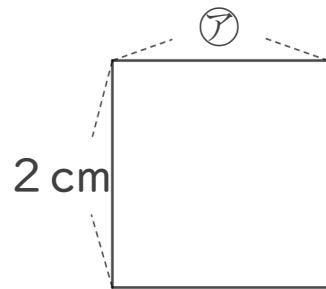


日にち： 月 日

名まえ

1 下の形は正方形です。つぎのもんだいに答えましょう。

(うすい字はなぞろう。)



① アのへんの長さは、何cmですか。

答え： 2 cm

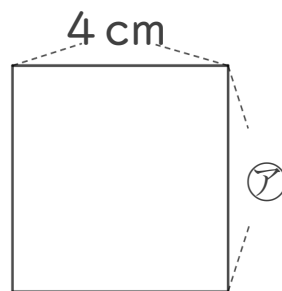
② この正方形のまわりの長さは何cmですか。

$$\text{しき： } 2 + 2 + 2 + 2 =$$

答え： 8 cm

2 下の形は正方形です。つぎのもんだいに答えましょう。

(うすい字はなぞろう。)



① アのへんの長さは、何cmですか。

答え： 4 cm

② この正方形のまわりの長さは何cmですか。

$$\text{しき： } 4 + 4 + 4 + 4 = 16$$

答え： 16 cm