



長方形と正方形 3

5

◎ 直角三角形をみつけよう

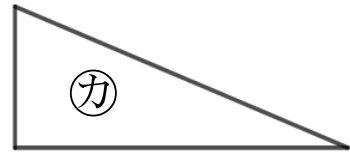
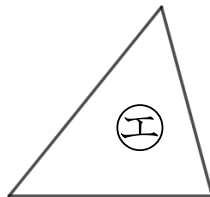
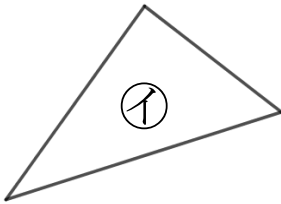
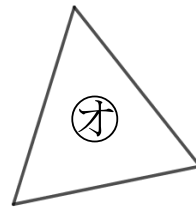
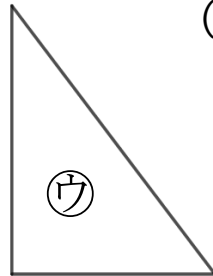
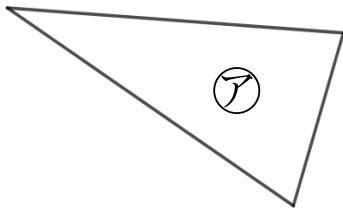
日にち： 月 日

名まえ _____

1 直角三角形はどれですか。

三角じょうぎをつかって、ぜんぶ見つけましょう。

(うすい字はしっかりなぞりましょう。)

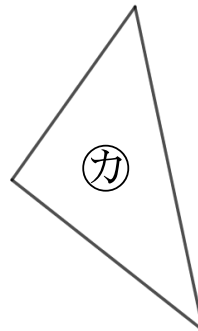
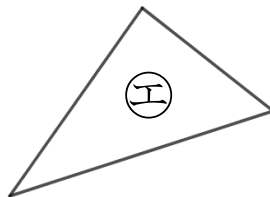
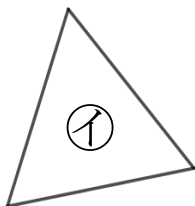
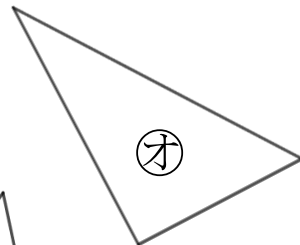
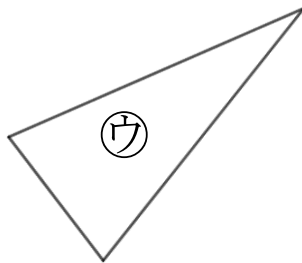
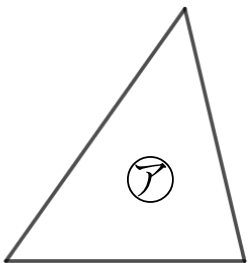


答え： イ, ウ,

2 直角三角形はどれですか。

三角じょうぎをつかって、ぜんぶ見つけましょう。

(うすい字はしっかりなぞりましょう。)



答え： エ,





長方形と正方形 3

5

◎ 直角三角形をみつけよう

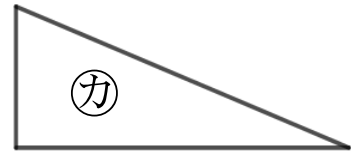
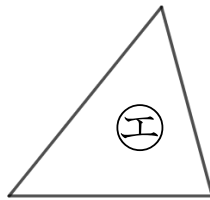
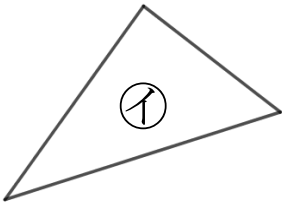
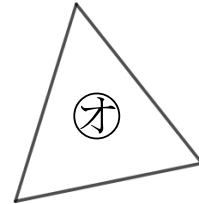
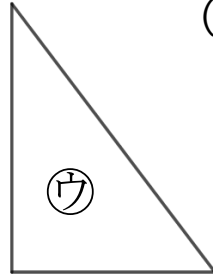
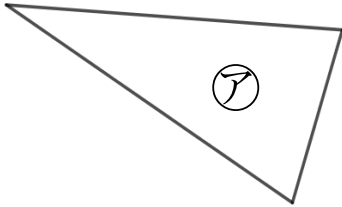
日にち： 月 日

名まえ _____

1 直角三角形はどれですか。

三角じょうぎをつかって、ぜんぶ見つけましょう。

(うすい字はしっかりなぞりましょう。)

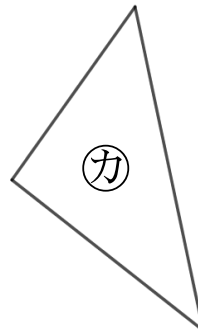
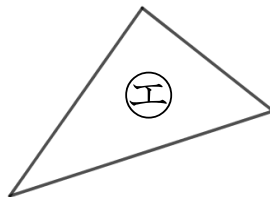
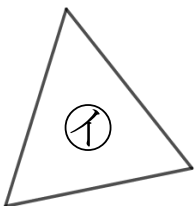
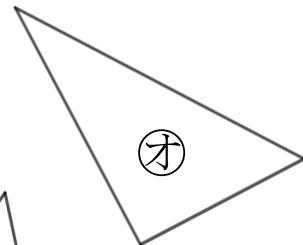
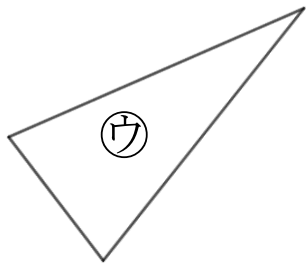
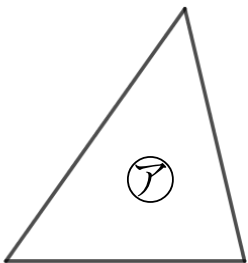


答え： イ, ウ, カ

2 直角三角形はどれですか。

三角じょうぎをつかって、ぜんぶ見つけましょう。

(うすい字はしっかりなぞりましょう。)



答え： エ, オ, カ