





## 分数 2

色をぬった部分は何分の一？

5

日にち：            月            日


名まえ

---

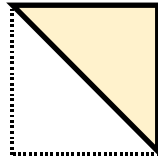
・色をぬったぶんはもとの大きさの何分の一ですか。

(うすい字はなぞろう。)

①



もとの大きさ



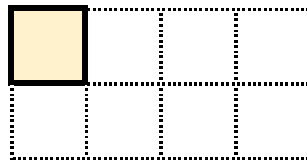
答え： $\frac{1}{2}$

---

②




もとの大きさ



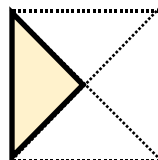
答え： $\frac{1}{8}$

---

③




もとの大きさ



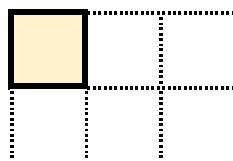
答え： $\frac{1}{4}$

---

④



もとの大きさ



答え： $\frac{1}{6}$

---

