



長いものの長さ3

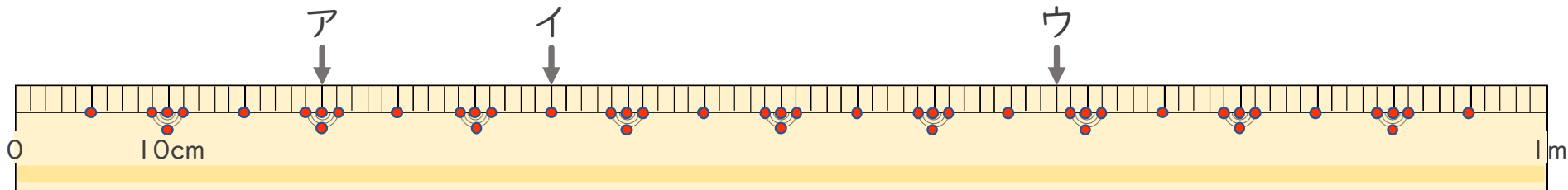
● 1メートルものさしの読みかた



日にち： 月 日

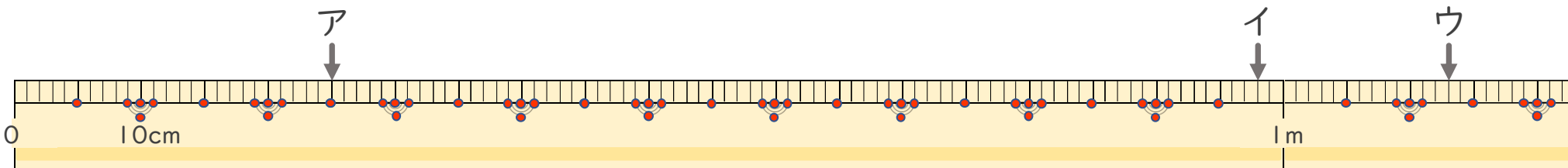
名まえ _____

1 左はしからア、イ、ウ、までの長さながはそれぞれどれだけですか。



ア () イ () ウ ()

2 左はしからア、イ、ウ、までの長さながはそれぞれどれだけですか。



ア () イ () ウ ()



長いものの長さ 3

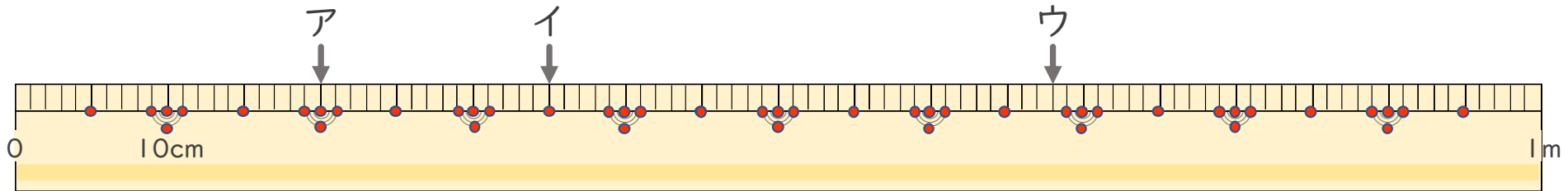
● 1メートルものさしの読みかた



日にち： 月 日

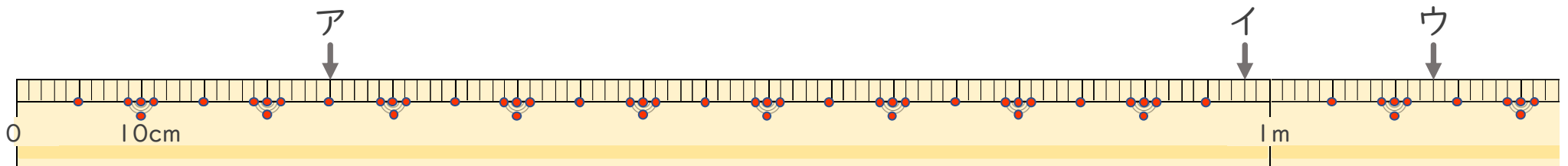
名まえ _____

1 左はしからア、イ、ウ、までの長さながはそれぞれどれだけですか。



ア (20 cm) イ (35 cm) ウ (68 cm)

2 左はしからア、イ、ウ、までの長さながはそれぞれどれだけですか。



ア (25 cm) イ (98 cm) ウ (1 m 13 cm)