



図を使って
考えよう 2



● はじめにあった数は何こ？

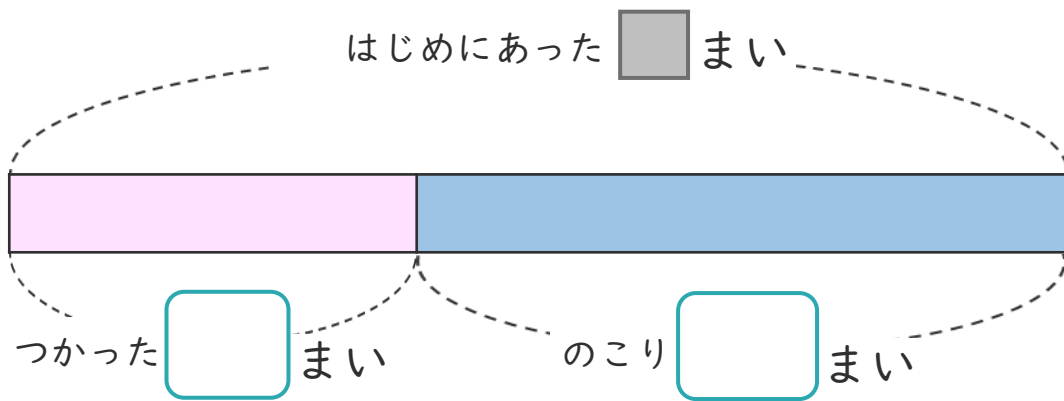
日にち： 月 日

名まえ _____

・ 色紙を 何まいか もっていました。

そのうち 8まい つかったので、のこりが 15まい になりました。

① 下の図の □ にあう 数を書きましょう。




② 色紙は、はじめに 何まい ありましたか。

しきと 答えを書きましょう。

<筆算スペース>

しき (\quad)

答え (\quad)





図を使って
考えよう 2

● はじめにあった数は何こ？



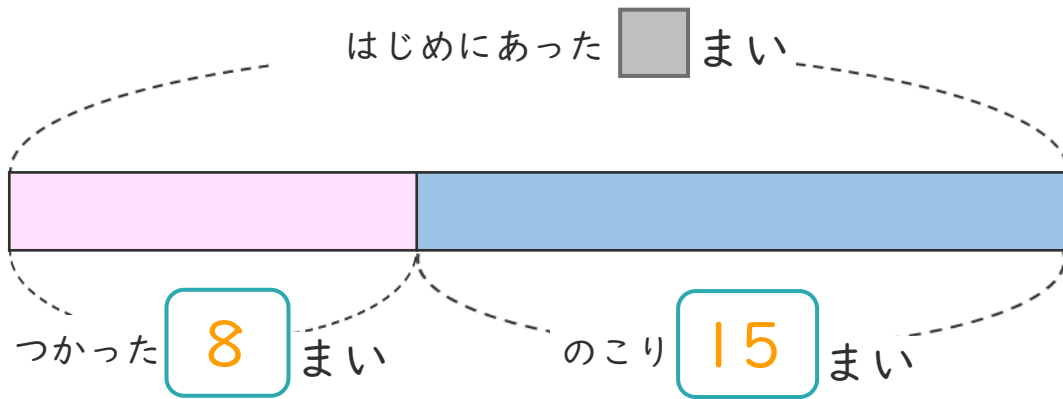
日にち： 月 日

名まえ _____

・ 色紙を 何まいか もっていました。

そのうち 8まい つかったので、のこりが 15まい になりました。

① 下の図の □ にあう 数を書きましょう。



② 色紙は、はじめに 何まい ありましたか。

しきと 答えを書きましょう。

<筆算スペース>

しき $(8 + 15 = 23)$

答え (23まい)

