

分数3

● もとの大きさの○分の一をさがす



日にち： 月 日

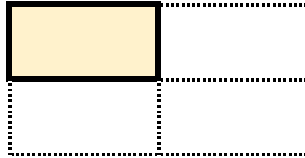
名まえ

1 もとの大きさの  $\frac{1}{8}$  はどれですか。(うすい字はなぞりましょう。)




もとの大きさ

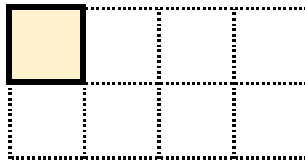
ア



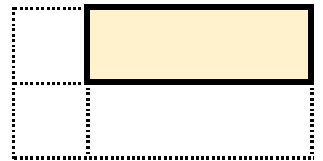
イ



ウ




エ



答え：

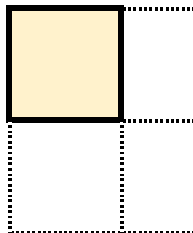


2 もとの大きさの  $\frac{1}{3}$  はどれですか。

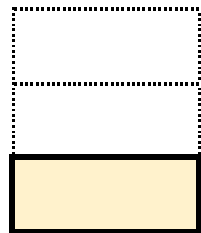


もとの大きさ


ア




イ



ウ



エ



答え：





分数3

● もとの大きさの○分の一をさがす

6

日にち：            月            日

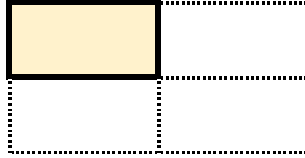
名まえ

1 もとの大きさの  $\frac{1}{8}$  はどれですか。(うすい字はなぞりましょう。)



もとの大きさ

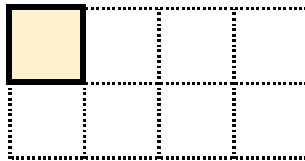
ア



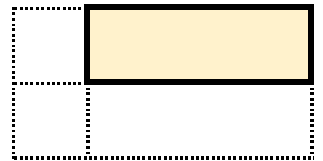
イ



ウ




エ



答え：

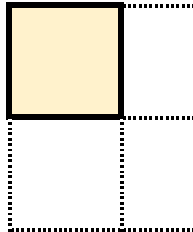
ウ

2 もとの大きさの  $\frac{1}{3}$  はどれですか。

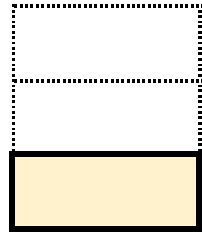


もとの大きさ


ア




イ



ウ



エ



答え：

イ

