



分数6

● もとの大きさはいくつ分？




日にち： 月 日

名まえ _____

・ つぎのもんだいに答えましょう。(うすい字はなぞりましょう。)

① もとの長さの $\frac{1}{5}$ をいくつあつめると、もとの長さになりますか。

もとの長さの $\frac{1}{5}$




もとの長さ




答え： 5つ

② もとの長さの $\frac{1}{7}$ をいくつあつめると、もとの長さになりますか。

もとの長さの $\frac{1}{7}$



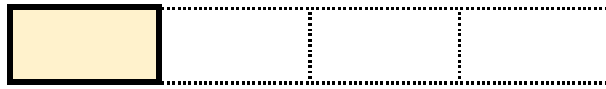
もとの長さ



答え： _____

③ もとの長さの $\frac{1}{4}$ をいくつあつめると、もとの長さになりますか。

もとの長さの $\frac{1}{4}$



もとの長さ



答え： _____





分数6

● もとの大きさはいくつ分？




日にち： 月 日

名まえ


・ つぎのもんだいに答えましょう。(うすい字はなぞりましょう。)

① もとの長さの $\frac{1}{5}$ をいくつあつめると、もとの長さになりますか。

もとの長さの $\frac{1}{5}$



もとの長さ




答え： 5つ

② もとの長さの $\frac{1}{7}$ をいくつあつめると、もとの長さになりますか。

もとの長さの $\frac{1}{7}$



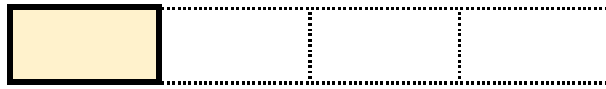
もとの長さ



答え： 7つ

③ もとの長さの $\frac{1}{4}$ をいくつあつめると、もとの長さになりますか。

もとの長さの $\frac{1}{4}$



もとの長さ



答え： 4つ