



長さのたんい 7

● ものさしではかる (mm)

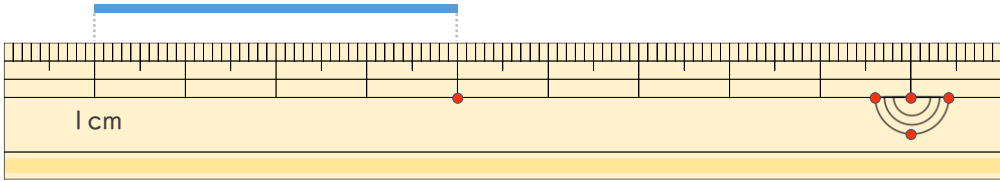


日にち： 月 日

名まえ _____

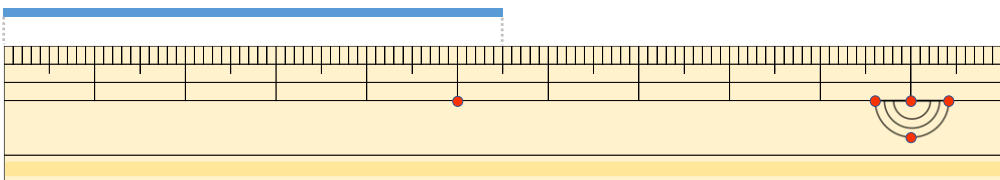
せん なが
・線の長さはどれだけですか。

①



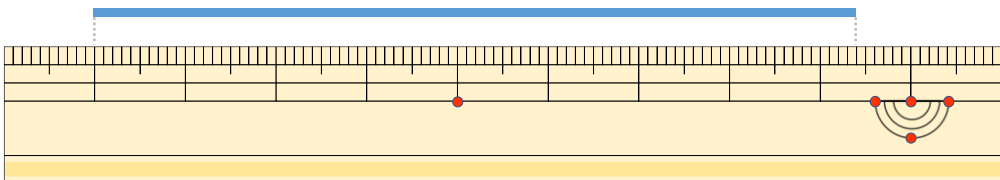
こた
答え ()

②



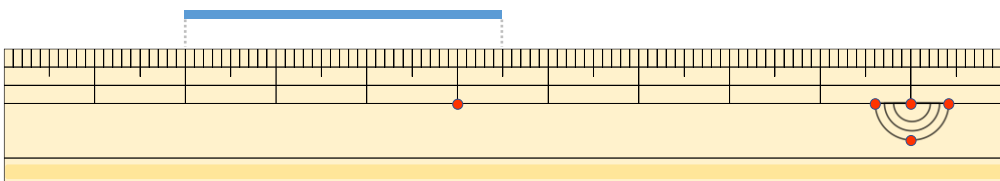
こた
答え ()

③



こた
答え ()

④



こた
答え ()





長さのたんい 7

● ものさしではかる (mm)

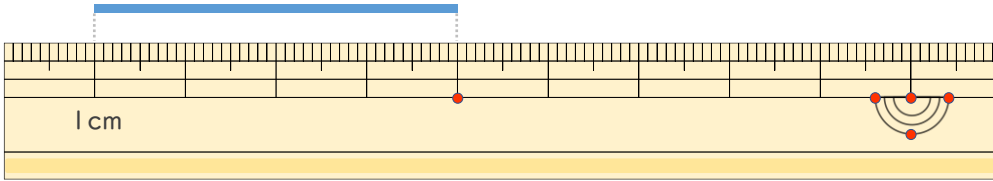


日にち： 月 日

名まえ _____

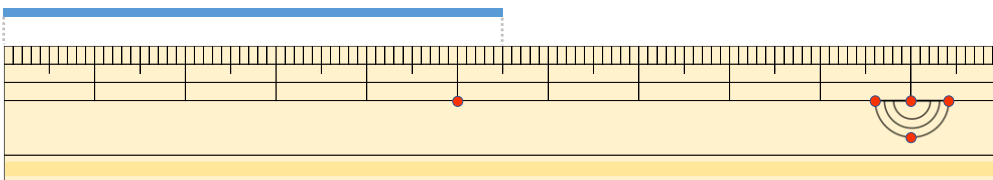
せん なが
・線の長さはどれだけですか。

①



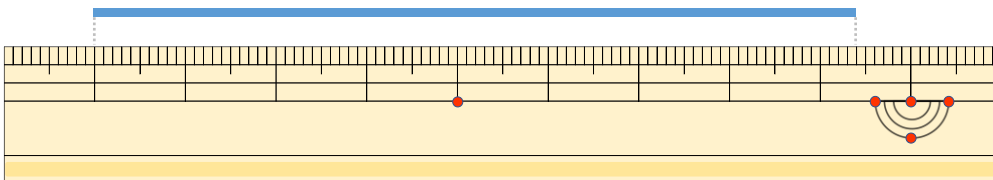
こた
答え (4 cm)

②



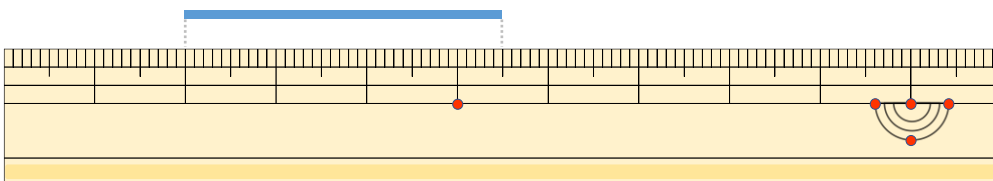
こた
答え (5 cm 5 mm)

③



こた
答え (8 cm 4 mm)

④



こた
答え (3 cm 5 mm)

