



長さのたんい 3

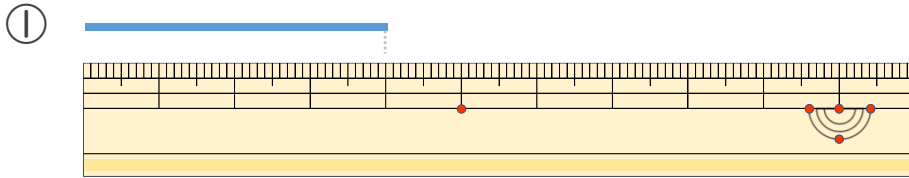
● 物のさしの見かた (cm)



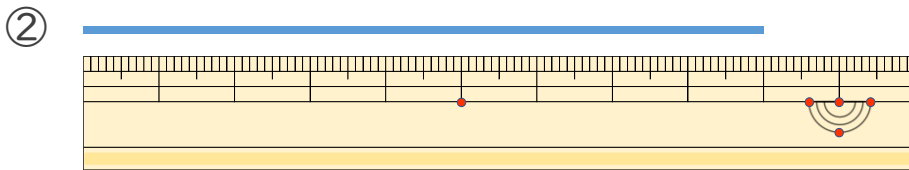
日にち： 月 日

名まえ _____

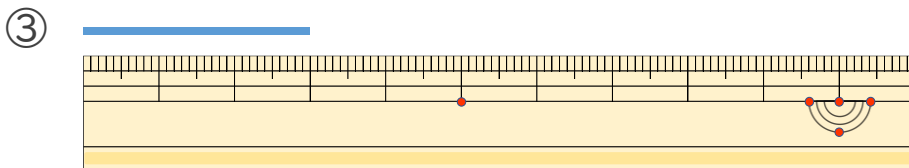
・線の長さは何cmでしょう。(うすい字はなぞりましょう。)



こたえ (4 cm)



こたえ (9 cm)



こたえ (3 cm)

