



# 長さのたんい 3

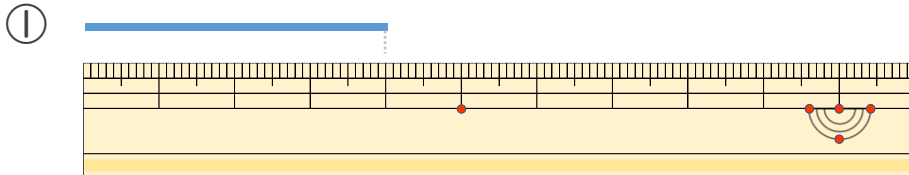
● 物のさしの見かた (cm)



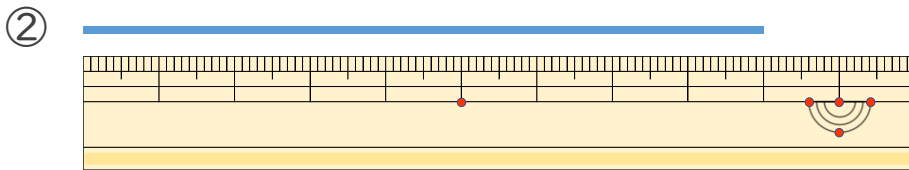
日にち：            月            日

名まえ \_\_\_\_\_

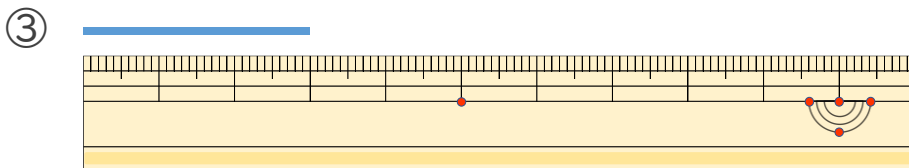
・ 線の 長さ は 何 cm でしょう。(うすい字は なぞり ましょう。)



こた 答え (            cm )



こた 答え (            )



こた 答え (            )





# 長さのたんい 3

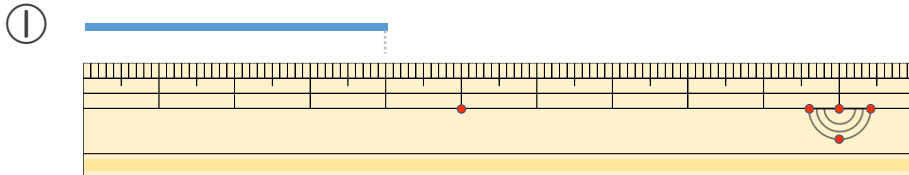
● 物のさしの見かた (cm)



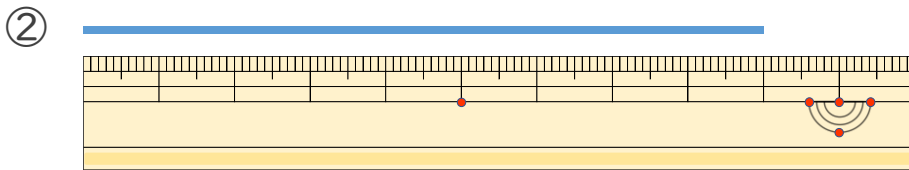
日にち：            月            日

名まえ \_\_\_\_\_

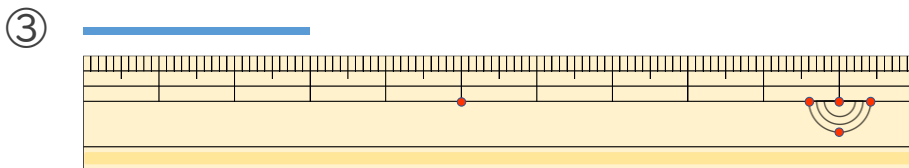
・線の長さは何cmでしょう。(うすい字はなぞりましょう。)



こた 答え ( 4 cm )



こた 答え ( 9 cm )



こた 答え ( 3 cm )

