



# 長さのたんい 2

● センチメートル



日にち：            月            日

名まえ \_\_\_\_\_

1 線の長さは何cmでしょう。（うすい字はなぞりましょう。）

①



1 cmが4つ分あるね！

答え（            cm            ）

2 線の長さは何cmでしょう。

①



答え（            ）

②



答え（            ）





# 長さのたんい 2

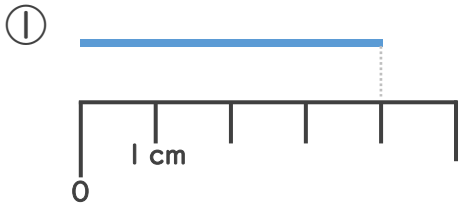
● センチメートル



日にち：            月            日

名まえ \_\_\_\_\_

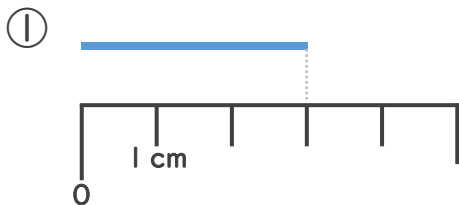
1 線の長さは何cmでしょう。（うすい字はなぞりましょう。）



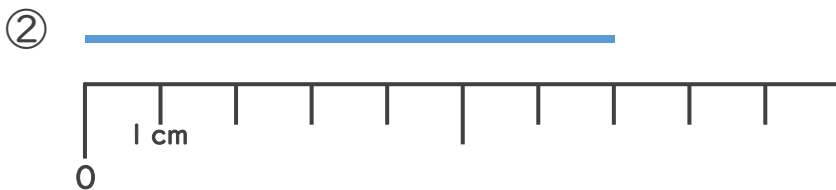
1 cmが4つ分あるね！

答え（ 4 cm ）

2 線の長さは何cmでしょう。



答え（ 3 cm ）



答え（ 7 cm ）

