



水のかさ 3



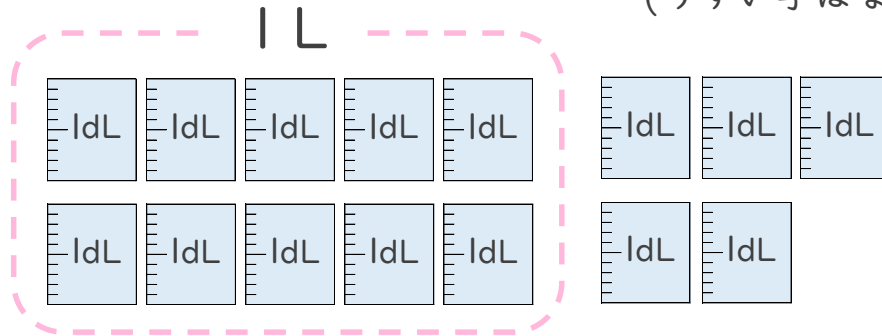
リットル

日にち： 月 日

名まえ _____

1 つぎの ペットボトルに入る 水のかさを しらべましょう。

(うすい字はなぞりましょう。)



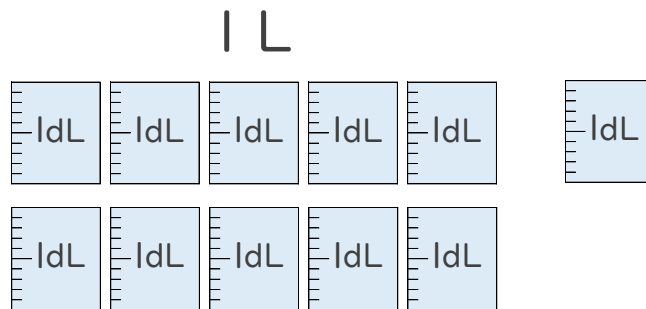
① ペットボトルに入る 水のかさは、何dLですか。

答え： _____ dL

② ペットボトルに入る 水のかさは、何L何dLですか。

答え： _____ L dL

2 つぎの ペットボトルに入る 水のかさを しらべましょう。



① ペットボトルに入る 水のかさは、何dLですか。

答え： _____

② ペットボトルに入る 水のかさは、何L何dLですか。

答え： _____



水のかさ 3



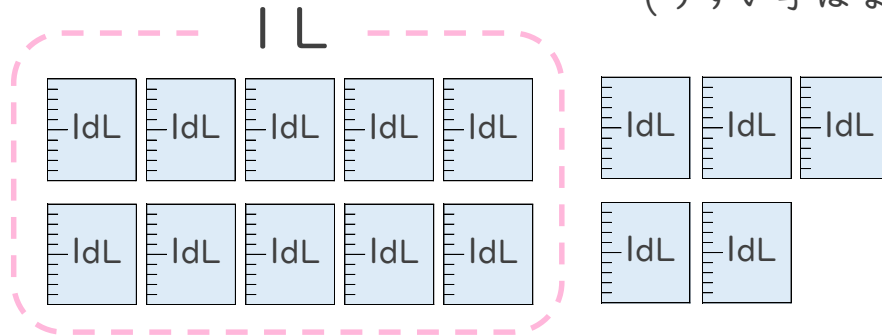
リットル

日にち： 月 日

名まえ _____

1 つぎのペットボトルに入る水のかさをしらべましょう。

(うすい字はなぞりましょう。)



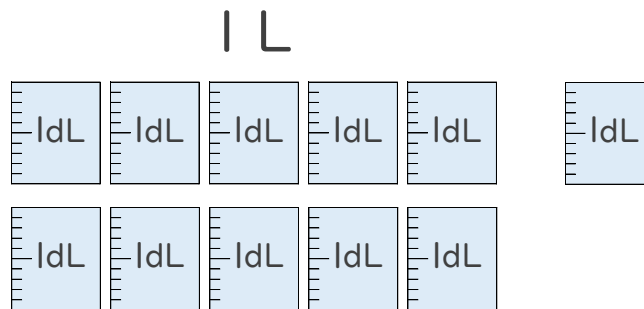
① ペットボトルに入る水のかさは、何dLですか。

答え： 15dL

② ペットボトルに入る水のかさは、何L何dLですか。

答え： 1 L 5 dL

2 つぎのペットボトルに入る水のかさをしらべましょう。



① ペットボトルに入る水のかさは、何dLですか。

答え： 11dL

② ペットボトルに入る水のかさは、何L何dLですか。

答え： 1 L 1 dL