



かけ算 26

● リボンの2ばいの長さ

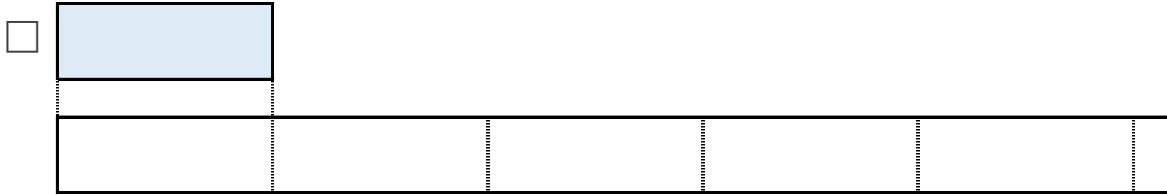


日にち： 月 日

名まえ _____

1 ㊦のリボンの3ばいの長さを求めましょう。

① □のリボンの3ばいの長さに色をぬりましょう。



② ㊦のリボンの長さは、8cmです。


①でぬったところの長さは何cmですか。

しき：

答え： _____

2 ㊧のリボンの8ばいの長さを求めましょう。

① ㊧のリボンの8ばいの長さに色をぬりましょう。



② ㊧のリボンの長さは、4cmです。

①でぬったところの長さは何cmですか。

しき：

答え： _____





かけ算 26

● リボンの2ばいの長さ




日にち： 月 日

名まえ _____

1 ㊦のリボンの3ばいの長さを求めましょう。

① □のリボンの3ばいの長さに色をぬりましょう。



② ㊦のリボンの長さは、8cmです。

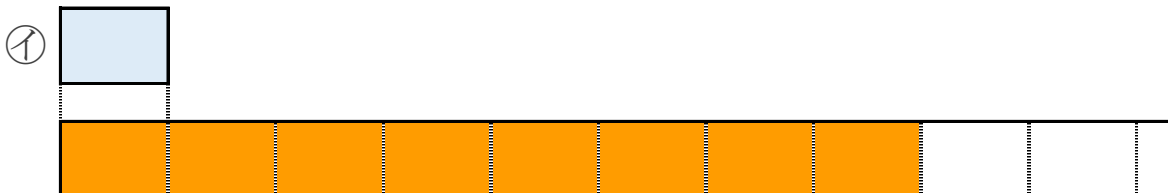
①でぬったところの長さは何cmですか。

$$\text{しき： } 8 \times 3 = 24$$

答え： 24cm

2 ㊧のリボンの8ばいの長さを求めましょう。

① ㊧のリボンの8ばいの長さに色をぬりましょう。



② ㊧のリボンの長さは、4cmです。

①でぬったところの長さは何cmですか。

$$\text{しき： } 4 \times 8 = 32$$

答え： 32cm

