



長方形と正方形 7



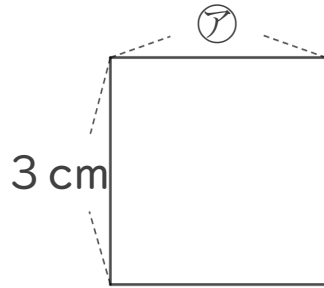
◎ 正方形のまわりの長さ

日にち： 月 日

名まえ _____

1 下の形は正方形です。つぎのもんだいに答えましょう。

(うすい字はなぞろう。)



① アのへんの長さは、何cmですか。

答え： 3 cm

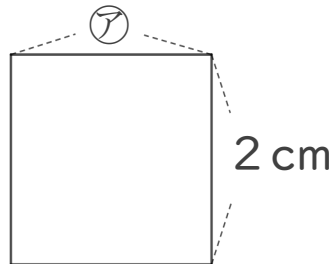
② この正方形のまわりの長さは何cmですか。

しき： $3 + 3 + \quad + \quad =$

答え： _____

2 下の形は正方形です。つぎのもんだいに答えましょう。

(うすい字はなぞろう。)



① アのへんの長さは、何cmですか。

答え： _____

② この正方形のまわりの長さは何cmですか。

しき： $2 + 2 + \quad + \quad =$

答え： _____



長方形と正方形 7

◎ 正方形のまわりの長さ

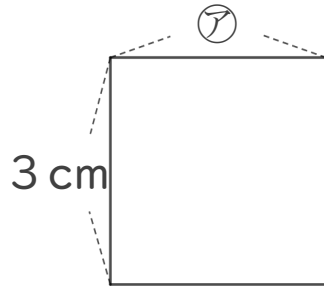
6

日にち： 月 日

名まえ

1 下の形は正方形です。つぎのもんだいに答えましょう。

(うすい字はなぞろう。)



① アのへんの長さは、何cmですか。

答え： 3 cm

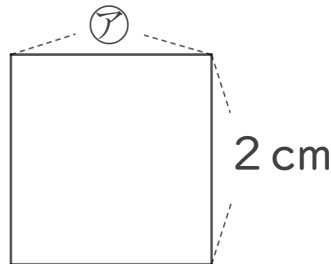
② この正方形のまわりの長さは何cmですか。

$$\text{しき： } 3 + 3 + 3 + 3 = 12$$

答え： 12 cm

2 下の形は正方形です。つぎのもんだいに答えましょう。

(うすい字はなぞろう。)



① アのへんの長さは、何cmですか。

答え： 2 cm

② この正方形のまわりの長さは何cmですか。

$$\text{しき： } 2 + 2 + 2 + 2 = 8$$

答え： 8 cm