



## かけ算 2

◎ 絵を見てかけ算の  
しきを作ろう




日にち：            月            日

名まえ \_\_\_\_\_

・ 絵を見て、かけ算のしきをつかって、ぜんぶでいくつか答えましょう。  
(うすい字はなぞりましょう)

①



しき：  $9 \times 2 =$

答え： \_\_\_\_\_

②



しき：

答え： \_\_\_\_\_





## かけ算 2

◎ 絵を見てかけ算の  
しきを作ろう




日にち：            月            日

名まえ \_\_\_\_\_

- ・ 絵を見て、かけ算のしきをつかって、ぜんぶでいくつか答えましょう。  
(うすい字はなぞりましょう)


①



$$\text{しき： } 9 \times 2 = 18$$

答え： 18こ

②



$$\text{しき： } 3 \times 3 = 9$$

答え： 9本

