



分数 2

色をぬった部分は何分の一？

6

日にち： 月 日

名まえ

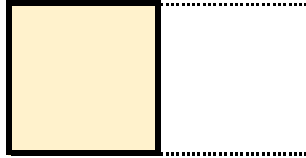
・色をぬったぶんはもとの大きさの何分の一ですか。

(うすい字はなぞろう。)

①



もとの大きさ




答え： $\frac{1}{2}$

②




もとの大きさ

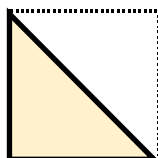


答え：

③



もとの大きさ

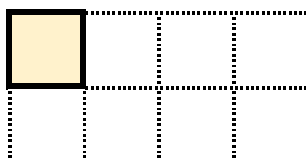


答え：

④



もとの大きさ



答え：



分数 2

色をぬった部分は何分の一？



日にち： 月 日

名まえ

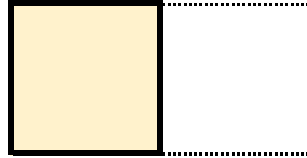
・色をぬったぶんはもとの大きさの何分の一ですか。

(うすい字はなぞろう。)

①



もとの大きさ




答え： $\frac{1}{2}$

②




もとの大きさ

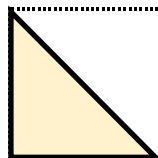


答え： $\frac{1}{4}$

③




もとの大きさ

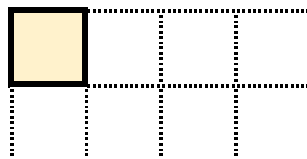


答え： $\frac{1}{2}$

④



もとの大きさ



答え： $\frac{1}{8}$

