



長いものの長さ3

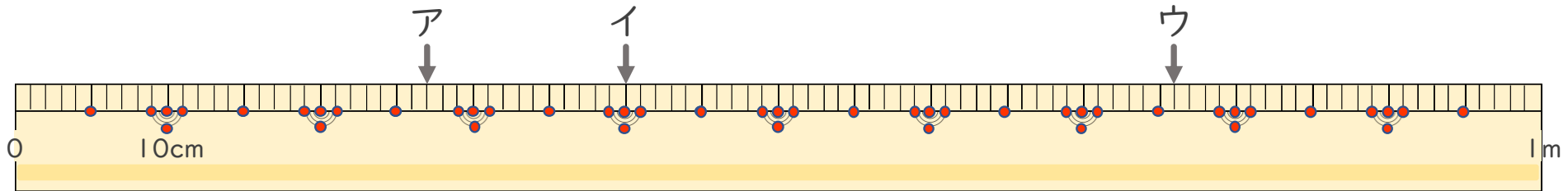
● 1メートルものさしの読みかた



日にち： 月 日

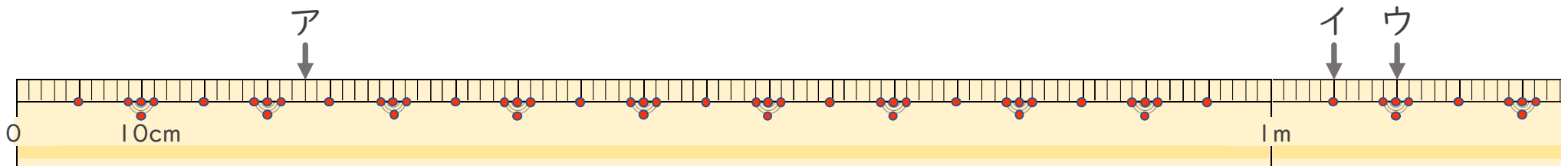
名まえ _____

1 左はしからア、イ、ウ、までの長さ^{なが}はそれぞれどれだけですか。



ア () イ () ウ ()

2 左はしからア、イ、ウ、までの長さ^{なが}はそれぞれどれだけですか。



ア () イ () ウ ()



長いものの長さ 3

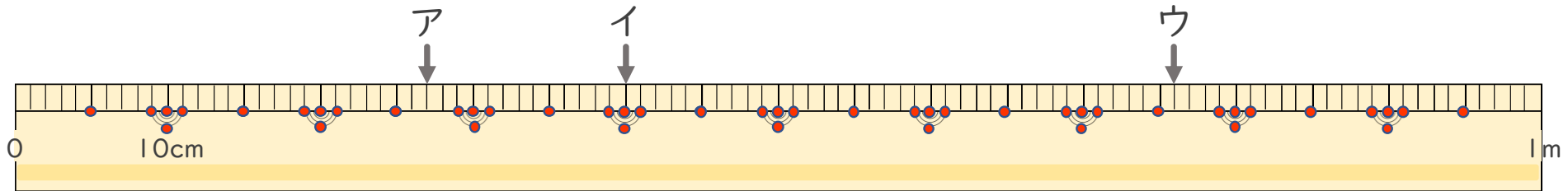
● 1メートルものさしの読みかた



日にち： 月 日

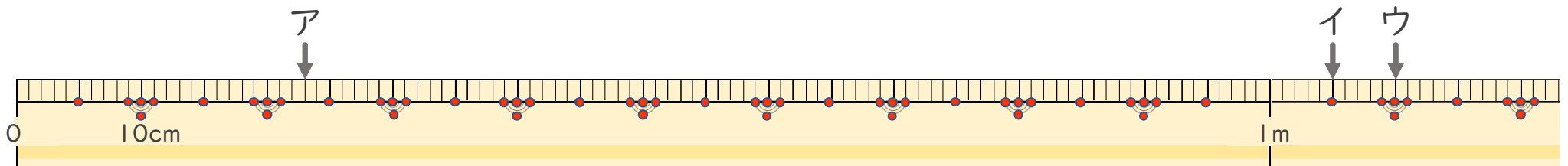
名まえ _____

1 左はしからア、イ、ウ、までの長さ^{なが}はそれぞれどれだけですか。



ア (27cm) イ (40cm) ウ (76cm)

2 左はしからア、イ、ウ、までの長さ^{なが}はそれぞれどれだけですか。



ア (23cm) イ (1m 5cm) ウ (1m 10cm)