



かけ算 28

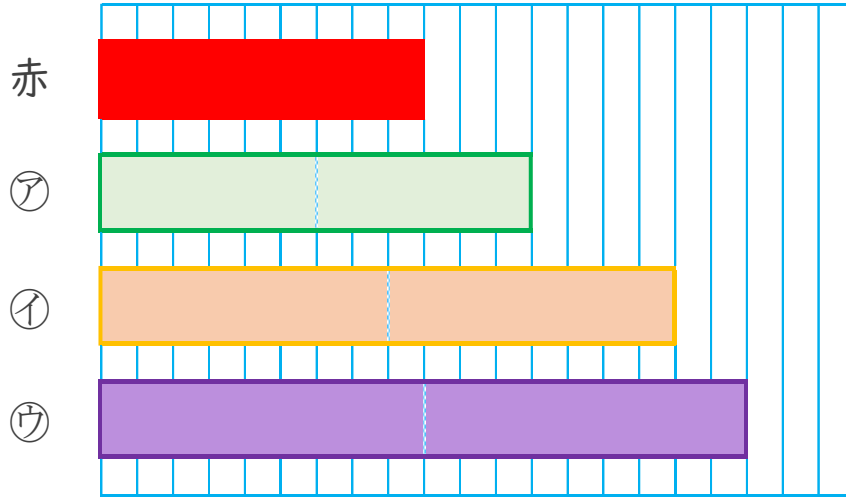
◎ 2ばいの長さのテープはどれ？



日にち： 月 日

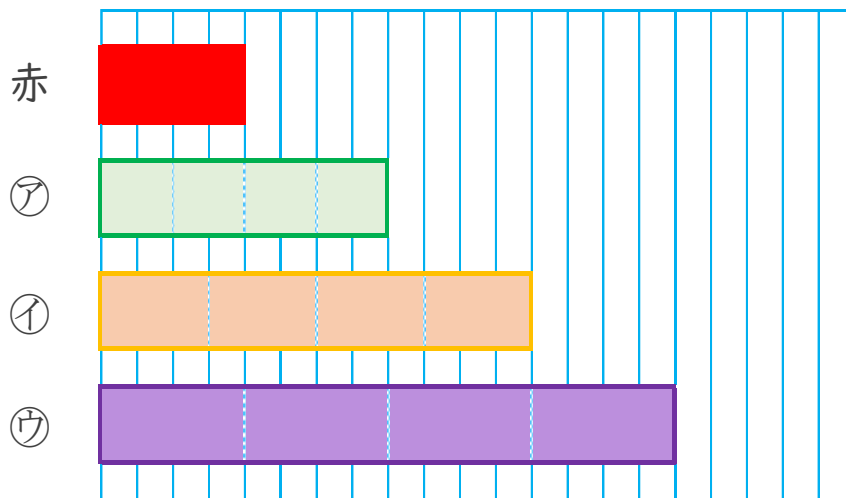
名まえ _____

1 下の赤いテープの2ばいの長さは、㊦、㊧、㊨のどれですか。



答え： _____

2 下の赤いテープの4ばいの長さは、㊦、㊧、㊨のどれですか。



答え： _____





かけ算 28

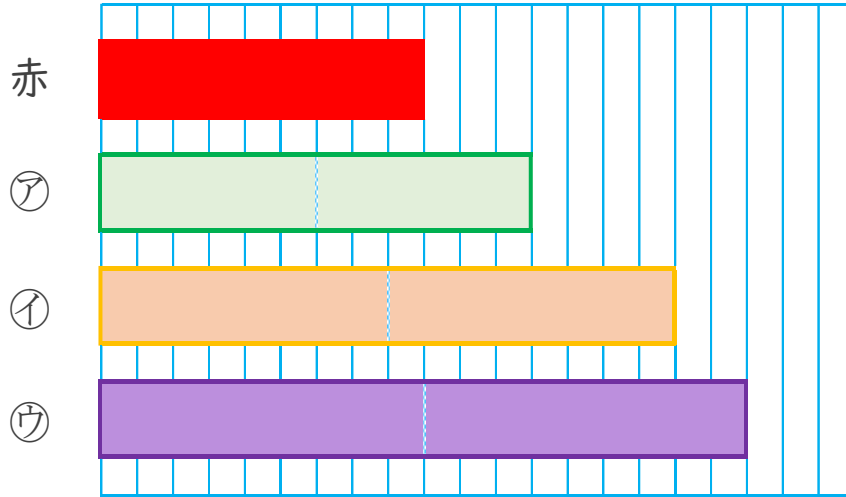
◎ 2ばいの長さのテープはどれ？



日にち： 月 日

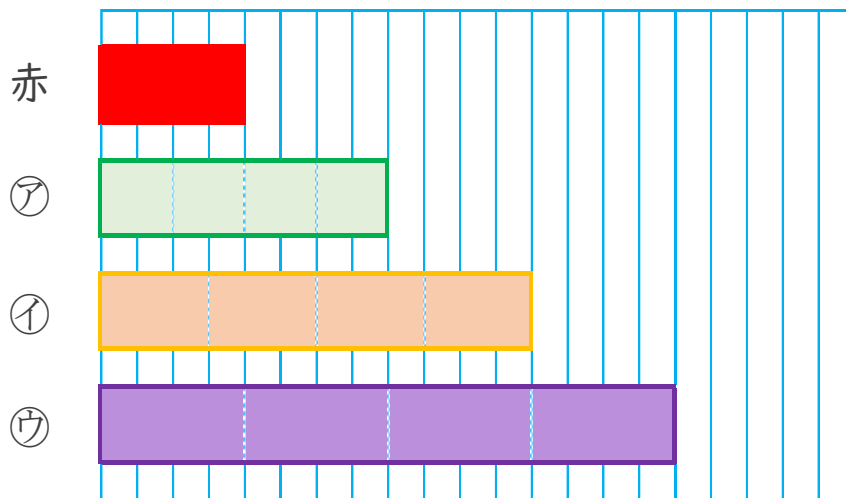
名まえ _____

1 下の赤いテープの2ばいの長さは、㉠、㉡、㉢のどれですか。



答え： ㉢

2 下の赤いテープの4ばいの長さは、㉠、㉡、㉢のどれですか。



答え： ㉢

