



分数3

● もとの大きさの○分の一をさがす

7

日にち： 月 日

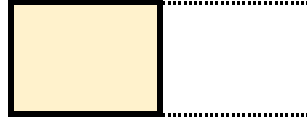
名まえ

1 もとの大きさの $\frac{1}{4}$ はどれですか。

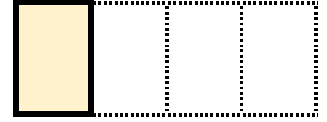


もとの大きさ


ア




イ



ウ




エ



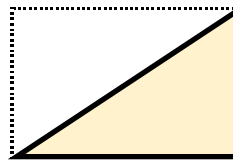
答え：

2 もとの大きさの $\frac{1}{6}$ はどれですか。

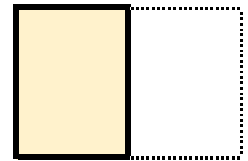


もとの大きさ

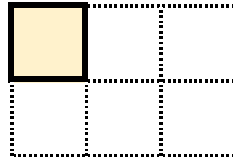
ア



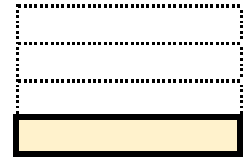
イ



ウ




エ



答え：





分数3

● もとの大きさの○分の一をさがす

7

日にち： 月 日

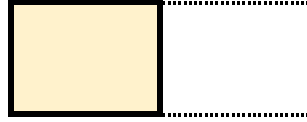
名まえ

1 もとの大きさの $\frac{1}{4}$ はどれですか。

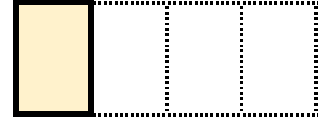


もとの大きさ


ア




イ



ウ




エ



答え：

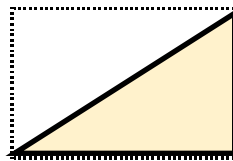
イ

2 もとの大きさの $\frac{1}{6}$ はどれですか。

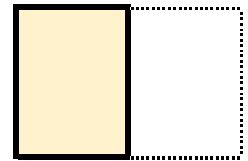


もとの大きさ

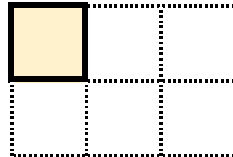
ア



イ



ウ



エ



答え：

ウ

