



分数6

● もとの大きさはいくつ分？



日にち：          月          日

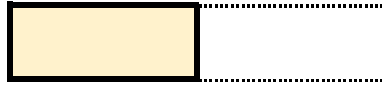
名まえ

---

・ つぎのもんだいに答えましょう。

① もとの長さの  $\frac{1}{2}$  をいくつあつめると、もとの長さになりますか。

もとの長さの  $\frac{1}{2}$



もとの長さ




答え：

---

② もとの長さの  $\frac{1}{9}$  をいくつあつめると、もとの長さになりますか。

もとの長さの  $\frac{1}{9}$



もとの長さ

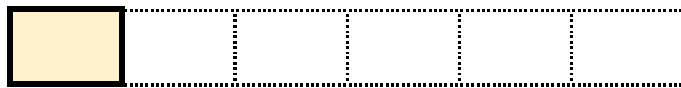


答え：

---

③ もとの長さの  $\frac{1}{6}$  をいくつあつめると、もとの長さになりますか。

もとの長さの  $\frac{1}{6}$



もとの長さ



答え：

---



分数6

● もとの大きさはいくつ分？



日にち：          月          日

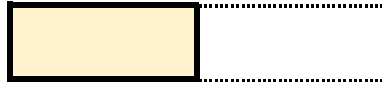
名まえ

---


・ つぎのもんだいに答えましょう。

① もとの長さの  $\frac{1}{2}$  をいくつあつめると、もとの長さになりますか。

もとの長さの  $\frac{1}{2}$




もとの長さ




答え： 2つ

② もとの長さの  $\frac{1}{9}$  をいくつあつめると、もとの長さになりますか。

もとの長さの  $\frac{1}{9}$



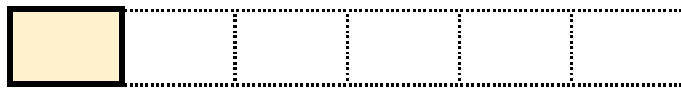
もとの長さ




答え： 9つ

③ もとの長さの  $\frac{1}{6}$  をいくつあつめると、もとの長さになりますか。

もとの長さの  $\frac{1}{6}$



もとの長さ



答え： 6つ