



長さのたんい 3

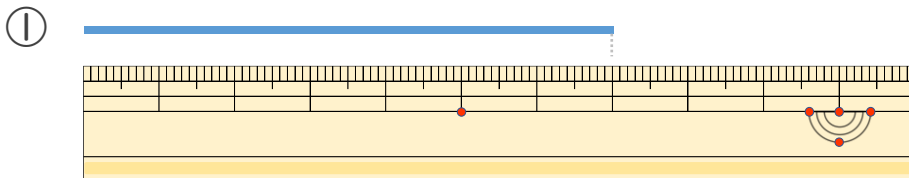
● 物のさしの見かた (cm)



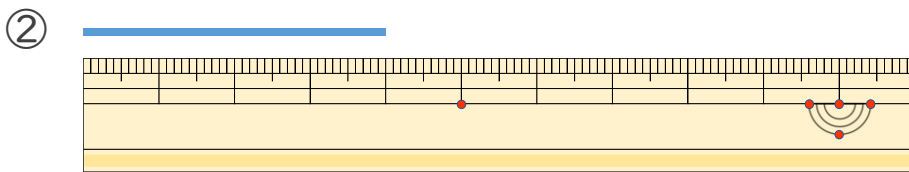
日にち： 月 日

名まえ _____

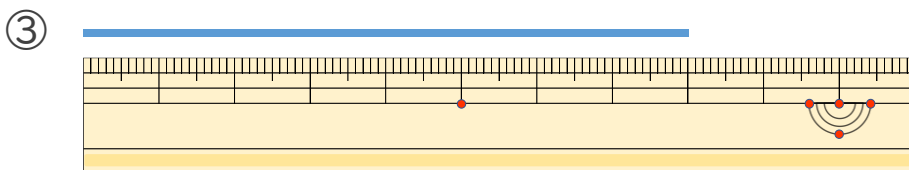
・ 線の ^{せん}長さは ^{なが}何 ^{なん}cm でしょう。



こた 答え ()



こた 答え ()



こた 答え ()





長さのたんい 3

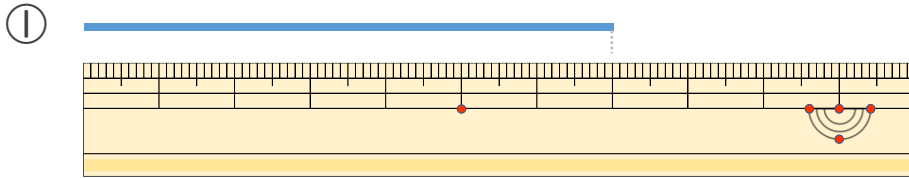
● 物のさしの見かた (cm)



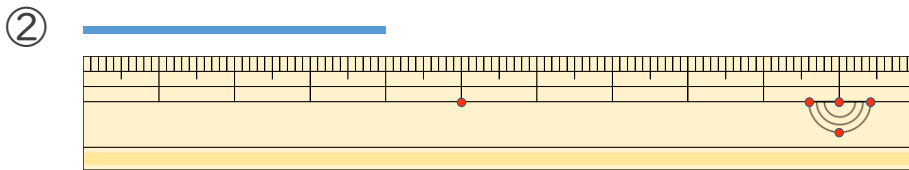
日にち： 月 日

名まえ _____

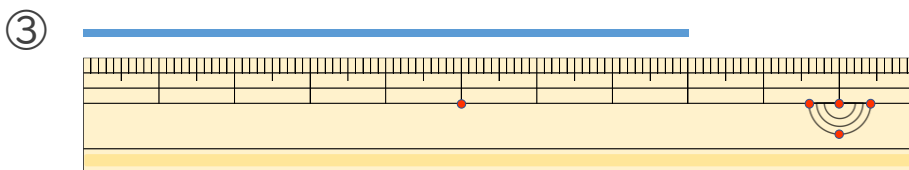
・ 線の 長さは何cmでしょう。



答え (7 cm)



答え (4 cm)



答え (8 cm)

