



長さのたんい 2

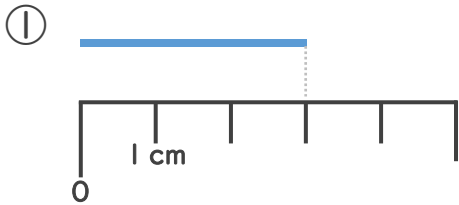
● センチメートル



日にち： 月 日

名まえ _____

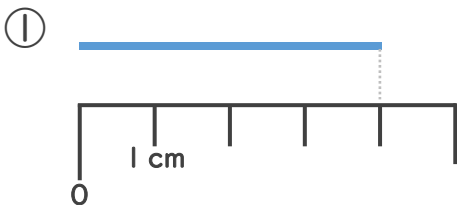
1 ^{せん}線の ^{なが}長さは ^{なん}何cmでしょう。



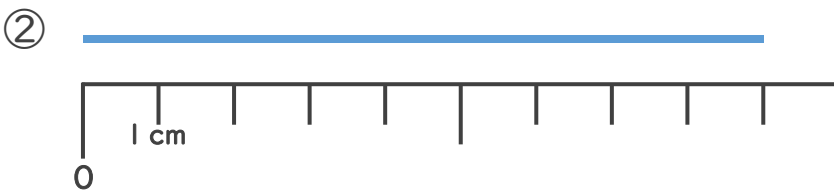
1 cmが ^{ぶん}3つ分あるね！

こた 答え (3 cm)

2 ^{せん}線の ^{なが}長さは ^{なん}何cmでしょう。



こた 答え (4 cm)



こた 答え (9 cm)

