



長さのたんい 5

● ミリメートル



日にち： 月 日

名まえ _____

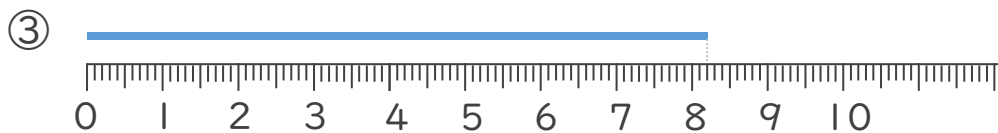
1 線の長さは何cm何mmでしょう。(うすい字はなぞりましょう。)



答え (cm mm)



答え ()



答え ()



答え ()





長さのたんい 5

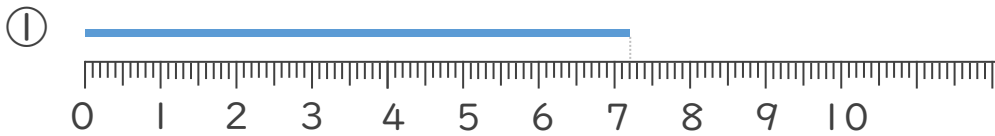
● ミリメートル



日にち： 月 日

名まえ _____

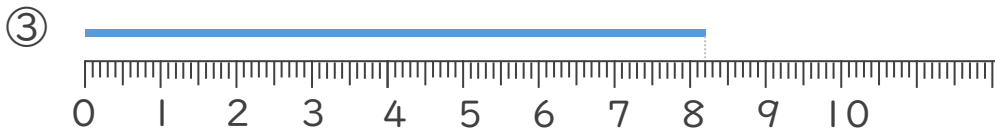
1 線の長さは何cm何mmでしょう。(うすい字はなぞりましょう。)



こた 答え (7 cm 2 mm)



こた 答え (3 cm 9 mm)



こた 答え (8 cm 2 mm)



こた 答え (2 cm 5 mm)

