



# 長さのたんい 5

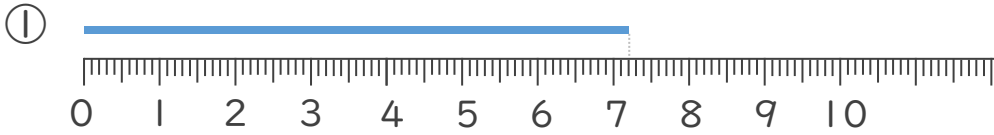
● ミリメートル



日にち：            月            日

名まえ \_\_\_\_\_

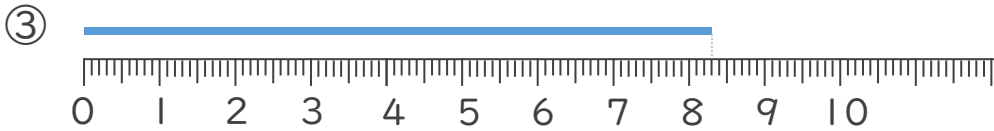
1 線の長さは何cm何mmでしょう。



答え (            )



答え (            )



答え (            )



答え (            )



# 長さのたんい 5

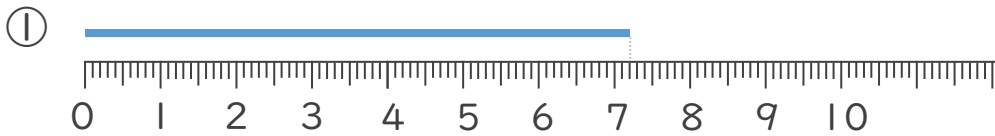
● ミリメートル



日にち：            月            日

名まえ \_\_\_\_\_

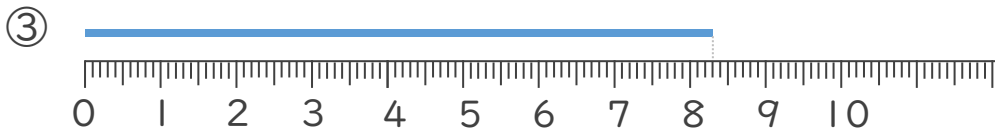
1 線の長さは何cm何mmでしょう。



答え ( 7 cm 2 mm )



答え ( 3 cm 9 mm )



答え ( 8 cm 3 mm )



答え ( 2 cm 5 mm )

