



# 水のかさ 3

リットル



日にち： 月 日

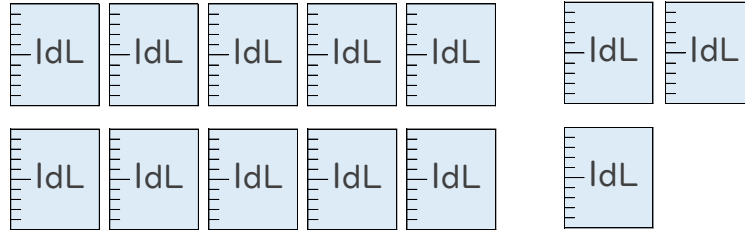
名まえ \_\_\_\_\_

1 つぎの ペットボトルに入る 水のかさを しらべましょう。

(うすい字はなぞりましょう。)



1 L



① ペットボトルに入る 水のかさは、何dLですか。

答え： \_\_\_\_\_ dL

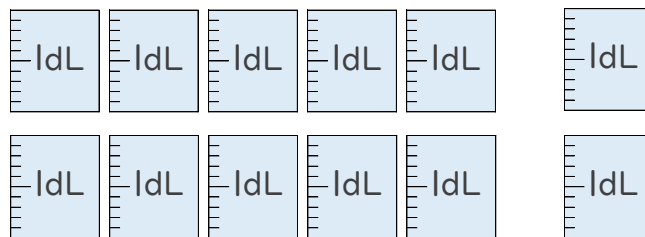
② ペットボトルに入る 水のかさは、何L何dLですか。

答え： \_\_\_\_\_ L \_\_\_\_\_ dL

2 つぎの ペットボトルに入る 水のかさを しらべましょう。



1 L



① ペットボトルに入る 水のかさは、何dLですか。

答え： \_\_\_\_\_

② ペットボトルに入る 水のかさは、何L何dLですか。

答え： \_\_\_\_\_



# 水のかさ 3

リットル



日にち： 月 日

名まえ \_\_\_\_\_

1 つぎの ペットボトルに入る 水のかさを しらべましょう。

(うすい字はなぞりましょう。)



1 L



① ペットボトルに入る 水のかさは、何dLですか。

答え： 13dL

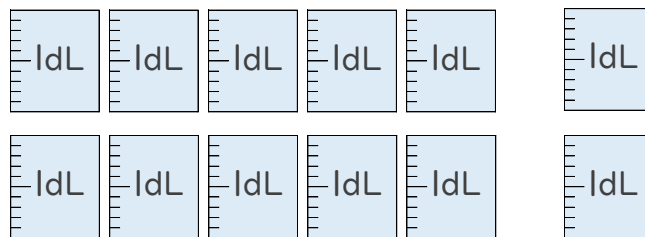
② ペットボトルに入る 水のかさは、何L何dLですか。

答え： 1 L 3 dL

2 つぎの ペットボトルに入る 水のかさを しらべましょう。



1 L



① ペットボトルに入る 水のかさは、何dLですか。

答え： 12dL

② ペットボトルに入る 水のかさは、何L何dLですか。

答え： 1 L 2 dL