



かけ算 26

● リボンの2ばいの長さ

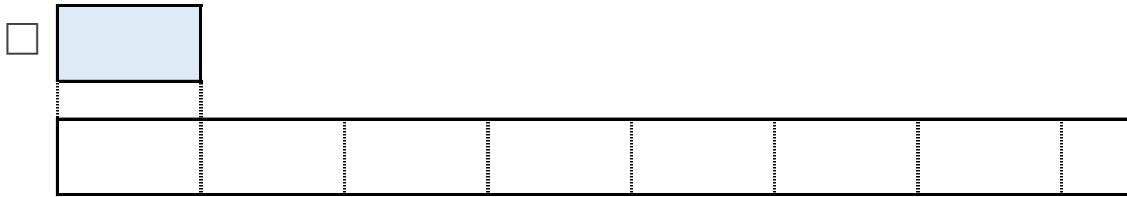


日にち： 月 日

名まえ _____

1 ㊦のリボンの2ばいの長さを求めましょう。

① ㊦のリボンの2ばいの長さに色をぬりましょう。



② ㊦のリボンの長さは、7cmです。


①でぬったところの長さは何cmですか。

しき：

答え： _____

2 ㊧のリボンの3ばいの長さを求めましょう。

① ㊧のリボンの3ばいの長さに色をぬりましょう。



② ㊧のリボンの長さは、9cmです。

①でぬったところの長さは何cmですか。

しき：

答え： _____





かけ算 26

● リボンの2ばいの長さ

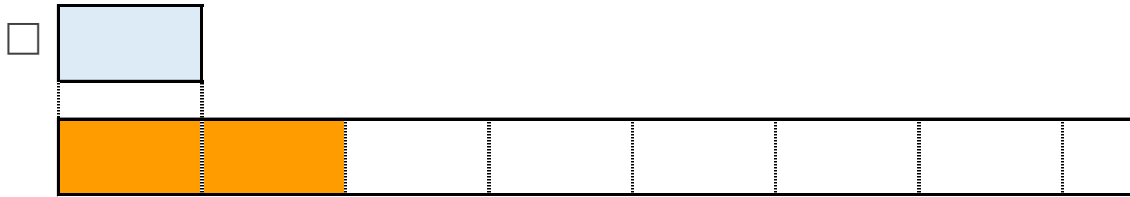


日にち： 月 日

名まえ _____

1 ㊦のリボンの2ばいの長さをもとめましょう。

① ㊦のリボンの2ばいの長さに色をぬりましょう。



② ㊦のリボンの長さは、7cmです。


①でぬったところの長さは何cmですか。

$$\text{しき} : 7 \times 2 = 14$$

答え： 14cm

2 ㊧のリボンの3ばいの長さをもとめましょう。

① ㊧のリボンの3ばいの長さに色をぬりましょう。



② ㊧のリボンの長さは、9cmです。

①でぬったところの長さは何cmですか。

$$\text{しき} : 9 \times 3 = 27$$

答え： 27cm

