



長方形と正方形 8

◎ 長方形や直角三角形をかいてみよう




日にち： 月 日


名まえ _____

・ つぎの形をかきましょう。(うすい線はなぞりましょう。)

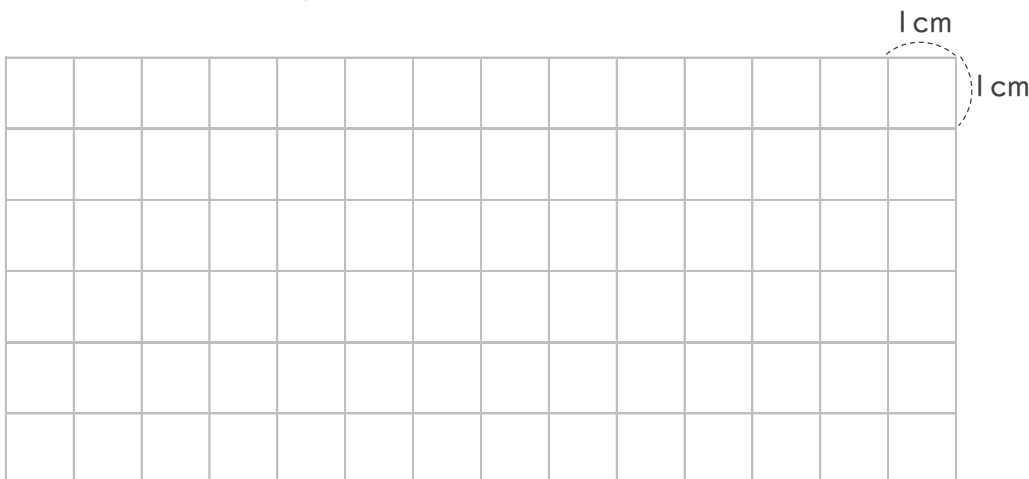
① 2 cmのへんと 6 cmのへんの間に、直角のかどがある直角三角形。



② たて6 cm、よこ7 cmの長方形。



③ 1つのへんの長さが 5 cmの正方形。





長方形と正方形 8

● 長方形や直角三角形をかいてみよう



日にち： 月 日


名まえ _____

・ つぎの形をかきましょう。(うすい線はなぞりましょう。)

① 2 cmのへんと 6 cmのへんの間に、直角のかどがある直角三角形。



② たて6 cm、よこ7 cmの長方形。



③ 1つのへんの長さが 5 cmの正方形。

