



長いものの長さ3

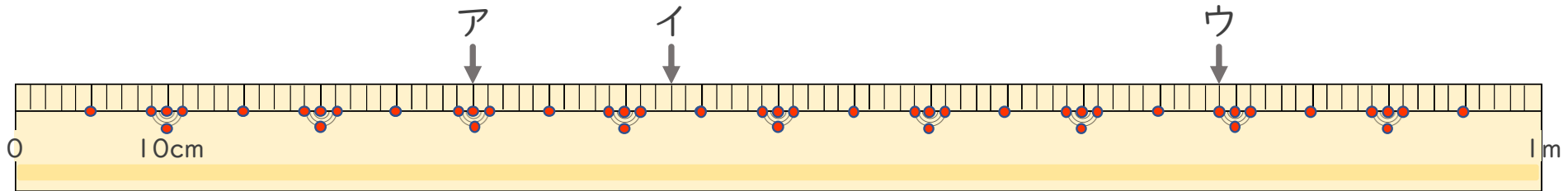
● 1メートルものさしの読みかた



日にち： 月 日

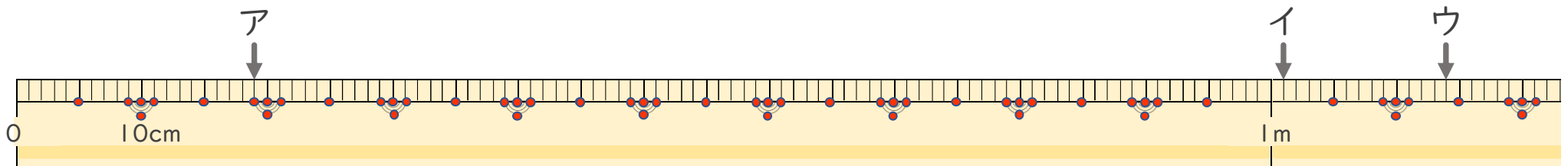
名まえ _____

1 左はしからア、イ、ウ、までの長さながはそれぞれどれだけですか。



ア () イ () ウ ()

2 左はしからア、イ、ウ、までの長さながはそれぞれどれだけですか。



ア () イ () ウ ()



長いものの長さ 3

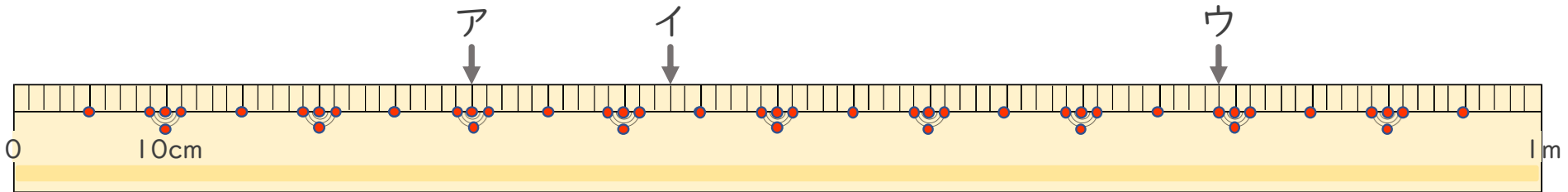
● 1メートルものさしの読みかた



日にち： 月 日

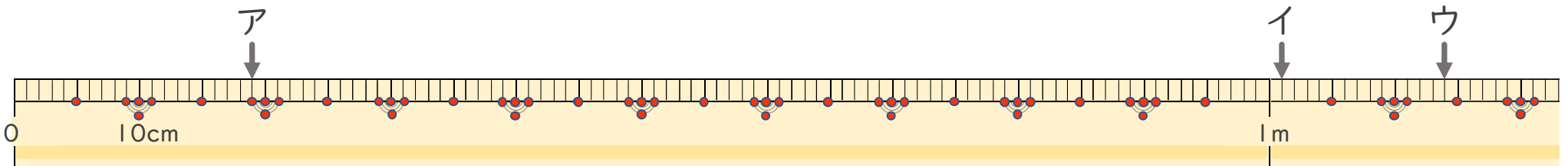
名まえ _____

1 左はしから ア、イ、ウ、までの ^{なが}長さはそれぞれどれだけですか。



ア (30cm) イ (43cm) ウ (79cm)

2 左はしから ア、イ、ウ、までの ^{なが}長さはそれぞれどれだけですか。



ア (19cm) イ (1m 1cm) ウ (1m 14cm)