

分数3


● もとの大きさの○分の一をさがす

8

日にち： 月 日


名まえ

1 もとの大きさの $\frac{1}{2}$ はどれですか。

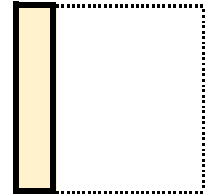


もとの大きさ

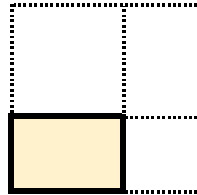
㉠



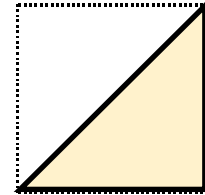
㉡



㉢




㉣




答え：

2 もとの大きさの $\frac{1}{5}$ はどれですか。

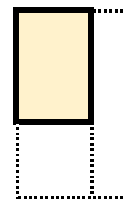


もとの大きさ


㉠



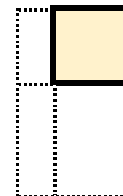
㉡



㉢



㉣



答え：



分数3


● もとの大きさの○分の一をさがす



日にち： 月 日


名まえ

1 もとの大きさの $\frac{1}{2}$ はどれですか。

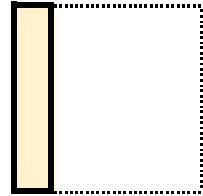


もとの大きさ

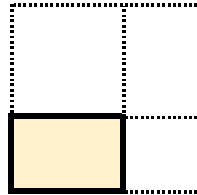
㉠



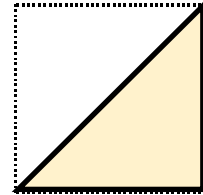
㉡



㉢




㉣



答え：


㉣

2 もとの大きさの $\frac{1}{5}$ はどれですか。

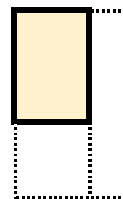


もとの大きさ


㉠



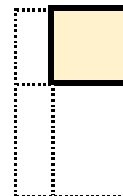
㉡



㉢



㉣



答え：

㉠