



分数6

● もとの大きさはいくつ分？



日にち：            月            日


名まえ

---

・ つぎのもんだいに答えましょう。

① もとの長さの  $\frac{1}{8}$  をいくつあつめると、もとの長さになりますか。

もとの長さの  $\frac{1}{8}$



もとの長さ



答え：

---

② もとの長さの  $\frac{1}{5}$  をいくつあつめると、もとの長さになりますか。

もとの長さの  $\frac{1}{5}$



もとの長さ



答え：

---

③ もとの長さの  $\frac{1}{3}$  をいくつあつめると、もとの長さになりますか。

もとの長さの  $\frac{1}{3}$




もとの長さ



答え：

---



分数6

● もとの大きさはいくつ分？



日にち：            月            日


名まえ

---

・ つぎのもんだいに答えましょう。

① もとの長さの  $\frac{1}{8}$  をいくつあつめると、もとの長さになりますか。

もとの長さの  $\frac{1}{8}$



もとの長さ




答え： 8つ

② もとの長さの  $\frac{1}{5}$  をいくつあつめると、もとの長さになりますか。

もとの長さの  $\frac{1}{5}$



もとの長さ



答え： 5つ

③ もとの長さの  $\frac{1}{3}$  をいくつあつめると、もとの長さになりますか。

もとの長さの  $\frac{1}{3}$



もとの長さ



答え： 3つ