



# 長さのたんい 7

● ものさしではかる (mm)

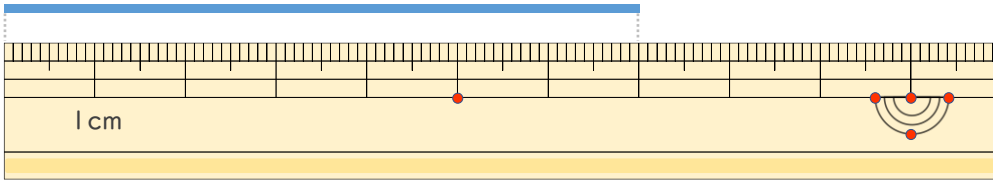


日にち：            月            日

名まえ \_\_\_\_\_

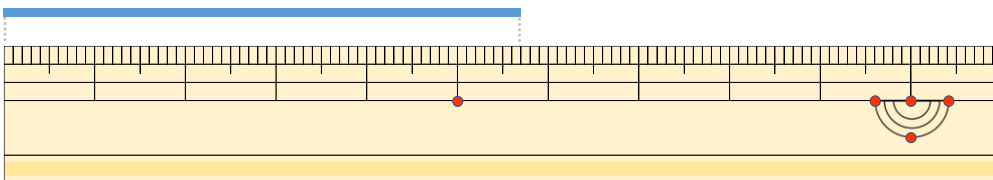
せん なが  
・線の長さはどれだけですか。

①



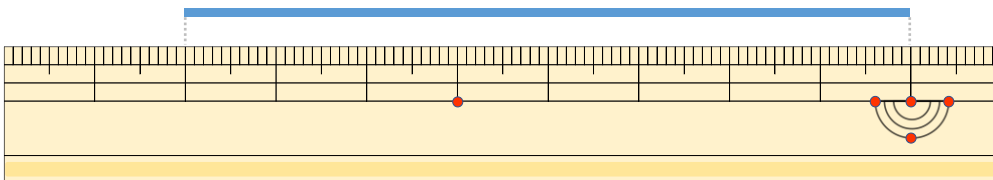
こた  
答え (            )

②



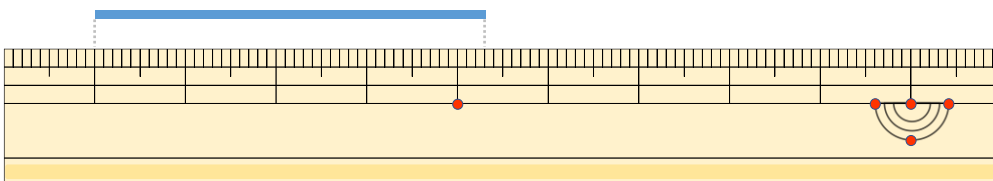
こた  
答え (            )

③



こた  
答え (            )

④



こた  
答え (            )





# 長さのたんい 7

● ものさしではかる (mm)

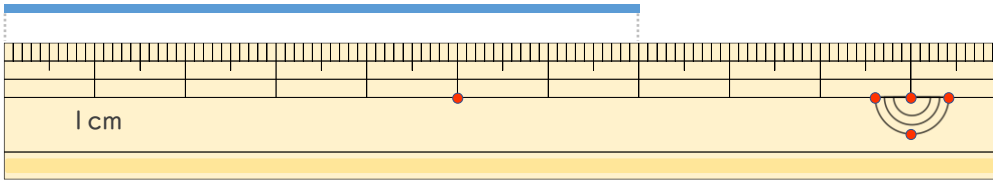


日にち：            月            日

名まえ \_\_\_\_\_

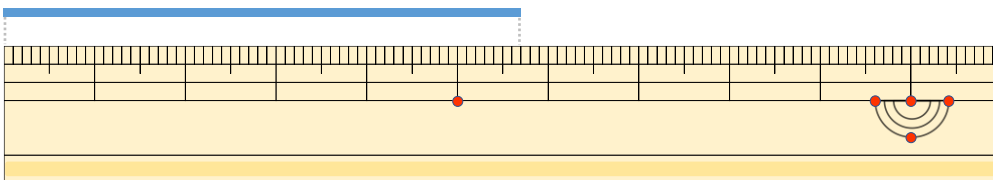
せん なが  
・線の長さはどれだけですか。

①



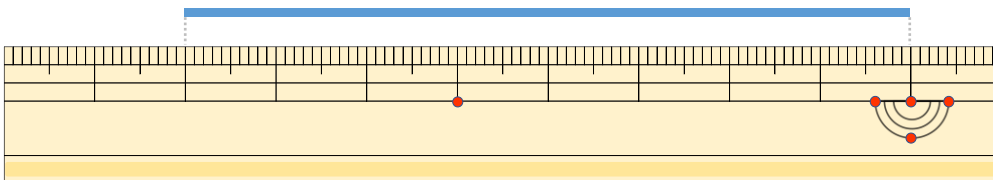
こた  
答え ( 7 cm )

②



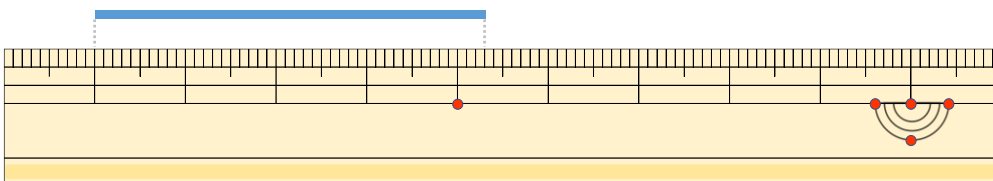
こた  
答え ( 5 cm 7 mm )

③



こた  
答え ( 8 cm )

④



こた  
答え ( 4 cm 3 mm )

