



長さのたんい 6

● 物のさしの見かた (mm)

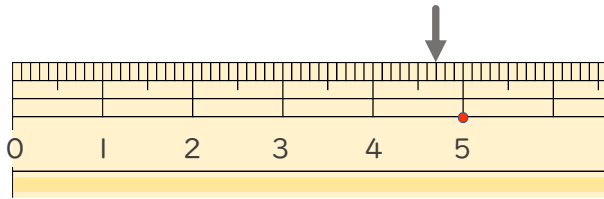


日にち： 月 日

名まえ _____

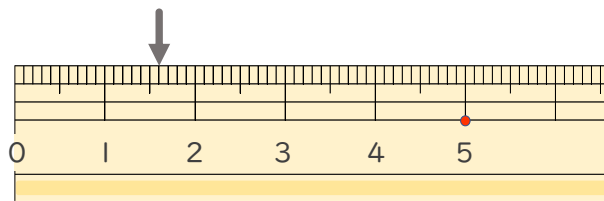
1 ^{ひだり} 左はしから ↓ ^{なが} ^{なん} ^{なん} までの 長さは 何cm何mm ですか。

①



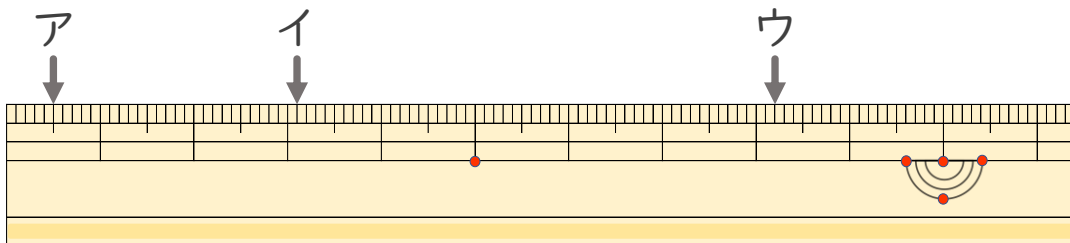
答え ()

②



答え ()

2 ^{ひだり} 左はしから ア、イ、ウ、 ^{なが} までの 長さは それぞれ どれだけで ですか。



ア () イ ()

ウ ()



長さのたんい 6

● ものさしの見かた (mm)

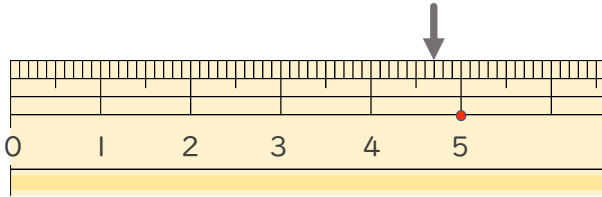


日にち： 月 日

名まえ _____

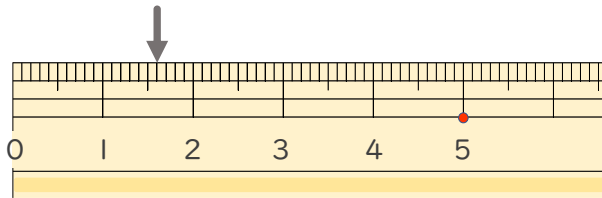
1 ^{ひだり}左はしから ^{なが} ↓ までの ^{なん} 長さは ^{なん} 何cm何mm ですか。

①



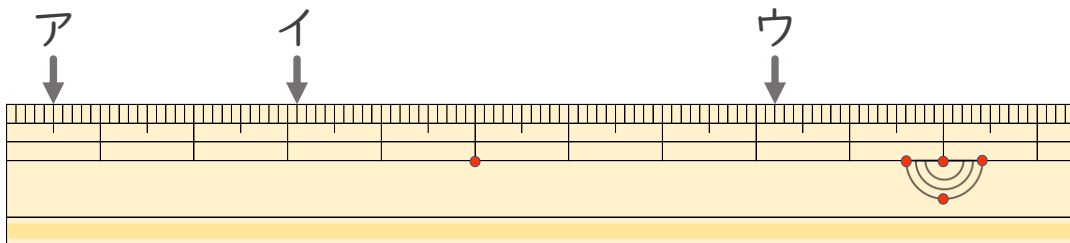
答え (4 cm 7 mm)

②



答え (1 cm 6 mm)

2 ^{ひだり}左はしから ア、イ、ウ、までの ^{なが} 長さは それぞれ どれだけで ですか。



ア (5 mm) イ (3 cm 1 mm)

ウ (8 cm 2 mm)

