



水のかさ2

● デシリットル



日にち： 月 日

名まえ _____

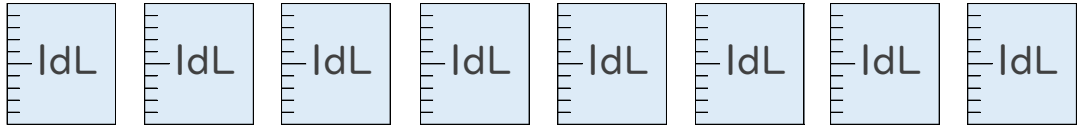
・ つぎの水とうの水のかさは、それぞれ何dLですか。

(うすい字はなぞりましょう。)

①



1 dLの つ分

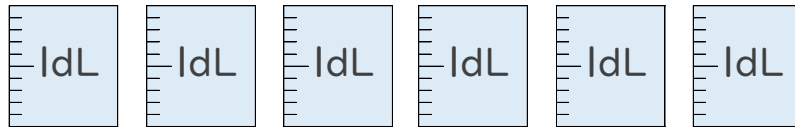


答え： _____ dL

②



1 dLの つ分

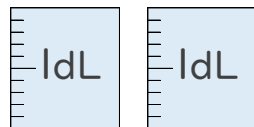


答え： _____

③



1 dLの つ分



答え： _____



水のかさ2

● デシリットル



日にち： 月 日

名まえ _____

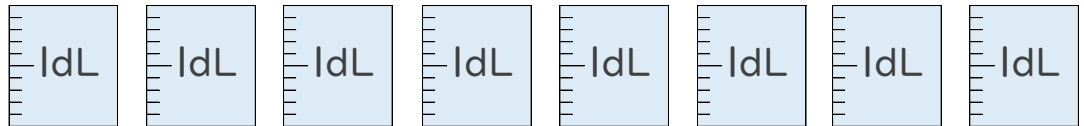
・ つぎの水とうの水のかさは、それぞれ何dLですか。

(うすい字はなぞりましょう。)

①



1 dLの **8** つ分

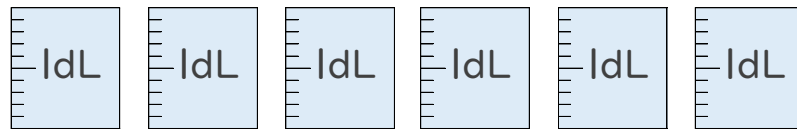


答え： **8 dL**

②



1 dLの **6** つ分

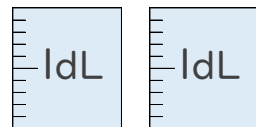


答え： **6 dL**

③



1 dLの **2** つ分



答え： **2 dL**