



かけ算 26

● テープの3ばいの長さ




日にち： 月 日

名まえ _____

1 ㊦のテープの3ばいの長さを求めましょう。

① ㊦のテープの3ばいの長さに色をぬりましょう。



② ㊦のテープの長さをはかると、6cmでした。

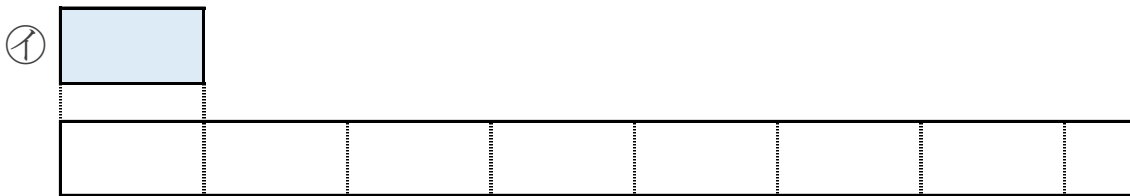
①でぬったところの長さは何cmですか。

しき：

答え： _____

2 ㊧のテープの7ばいの長さを求めましょう。

① ㊧のテープの7ばいの長さに色をぬりましょう。



② ㊧のテープの長さをはかると、4cmでした。

③でぬったところの長さは何cmですか。

しき：

答え： _____





かけ算 26

● テープの3ばいの長さ




日にち： 月 日

名まえ _____

1 ㊦のテープの3ばいの長さを求めましょう。

① ㊦のテープの3ばいの長さに色をぬりましょう。



② ㊦のテープの長さをはかると、6cmでした。

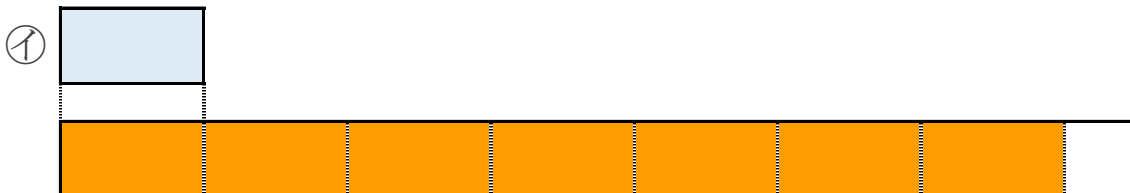
①でぬったところの長さは何cmですか。

$$\text{しき： } 6 \times 3 = 18$$

答え： 18cm

2 ㊧のテープの7ばいの長さを求めましょう。

① ㊧のテープの7ばいの長さに色をぬりましょう。



② ㊧のテープの長さをはかると、4cmでした。

③でぬったところの長さは何cmですか。

$$\text{しき： } 4 \times 7 = 28$$

答え： 28cm

