



長さのたんい 5

● ミリメートル

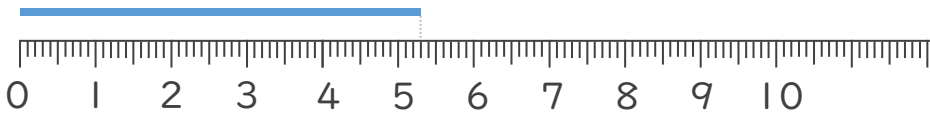


日にち： 月 日

名まえ _____

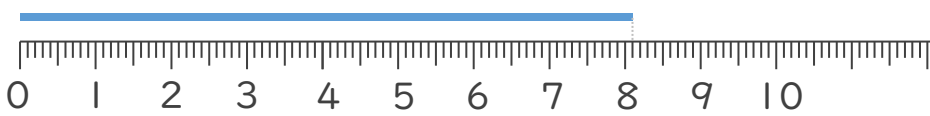
1 線の長さは何cm何mmでしょう。

①



答え ()

②




答え ()

③



答え ()

④



答え ()





長さのたんい 5

● ミリメートル

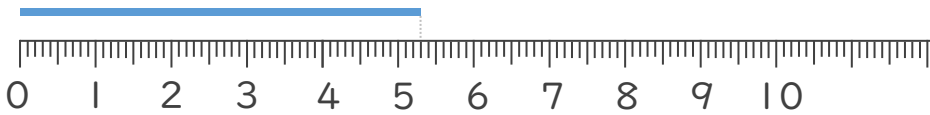


日にち： 月 日

名まえ _____

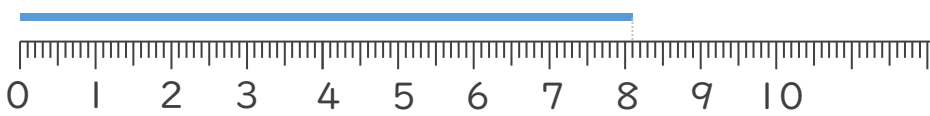
1 線の長さは何cm何mmでしょう。

①



答え (5 cm 3 mm)

②




答え (8 cm 1 mm)

③



答え (2 cm 3 mm)

④



答え (4 cm 1 mm)

