



水のかさ4

リットルとデシリットル

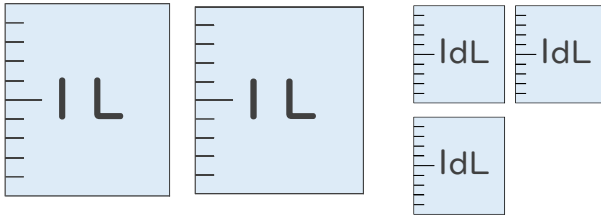


日にち： 月 日

名まえ _____

- 水のかさはどれだけですか。
それぞれのたんいであらわしましょう。

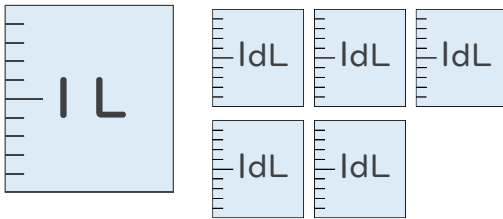
①



(L dL)

(dL)

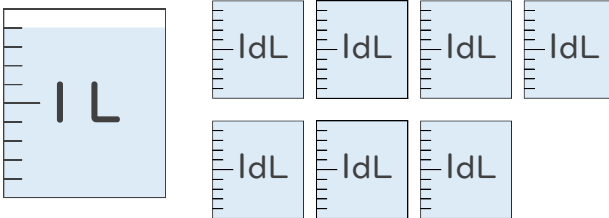
②



(L dL)

(dL)

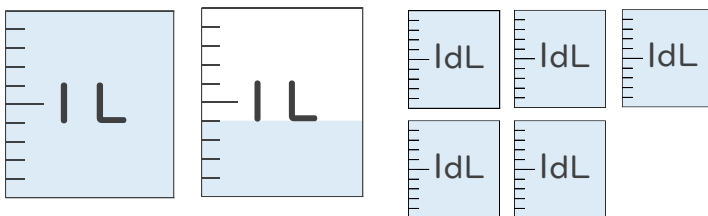
③



(L dL)

(dL)

④



(L dL)

(dL)



水のかさ4

リットルとデシリットル

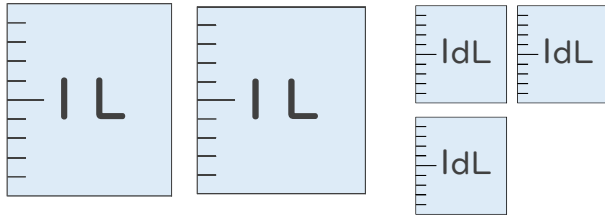


日にち： 月 日

名まえ _____

- 水のかさはどれだけですか。
それぞれのたんいであらわしましょう。

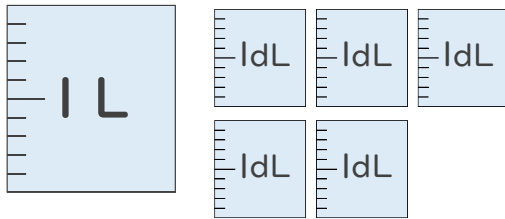
①



(2 L 3 dL)

(23 dL)

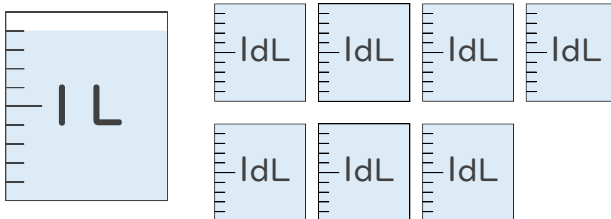
②



(1 L 5 dL)

(15 dL)

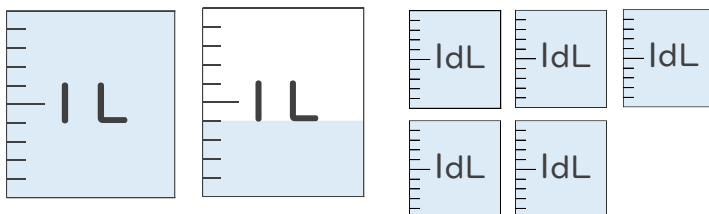
③



(1 L 6 dL)

(16 dL)

④



(1 L 9 dL)

(19 dL)