



水のかさ 3

リットル



日にち： 月 日

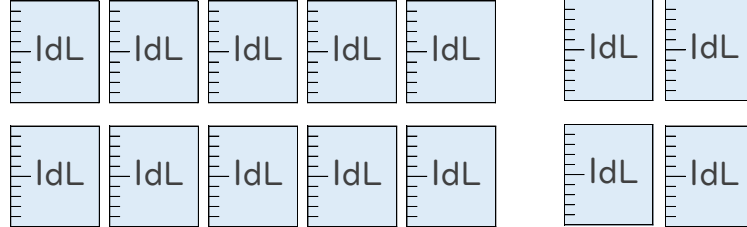
名まえ _____

1 つぎの ペットボトルに入る 水のかさを しらべましょう。

(うすい字はなぞりましょう。)



1 L



① ペットボトルに入る 水のかさは、何dLですか。

答え： _____

② ペットボトルに入る 水のかさは、何L何dLですか。

答え： _____

2 つぎの ペットボトルに入る 水のかさを しらべましょう。



1 L



① ペットボトルに入る 水のかさは、何dLですか。

答え： _____

② ペットボトルに入る 水のかさは、何L何dLですか。

答え： _____





水のかさ 3

リットル



日にち： 月 日

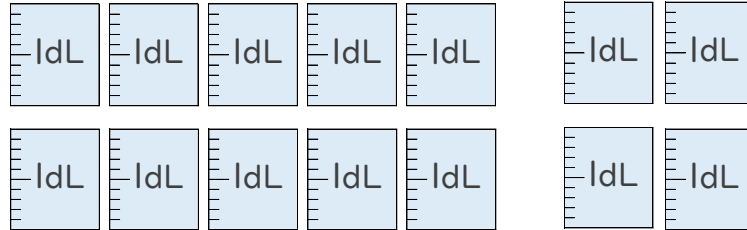
名まえ _____

1 つぎのペットボトルに入る水のかさをしらべましょう。

(うすい字はなぞりましょう。)



1 L



① ペットボトルに入る水のかさは、何dLですか。

答え： 44dL

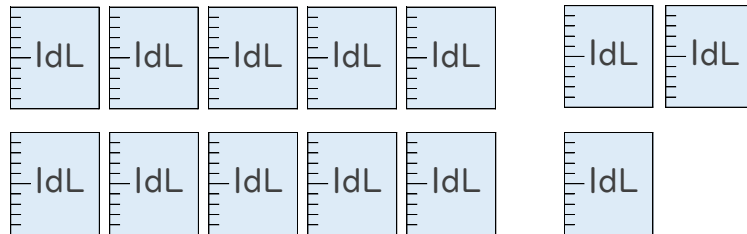
② ペットボトルに入る水のかさは、何L何dLですか。

答え： 0L 44dL

2 つぎのペットボトルに入る水のかさをしらべましょう。



1 L



① ペットボトルに入る水のかさは、何dLですか。

答え： 33dL

② ペットボトルに入る水のかさは、何L何dLですか。

答え： 0L 33dL

