



分数7

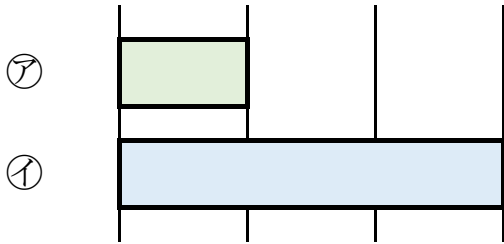
何倍？何分のー？



日にち： 月 日

名まえ

1 つぎの図を見てもんだいに答えましょう。



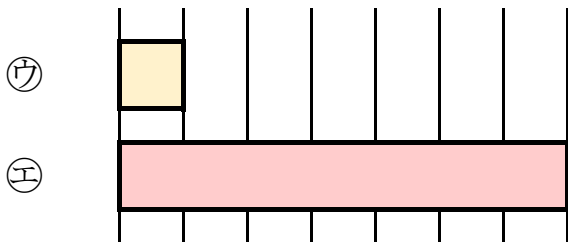
① 下の①のテープの長さは、②のテープの長さの何ばいですか。

答え：

② 上の②のテープの長さは、①のテープの長さの何分のーですか。

答え：

2 つぎの図を見てもんだいに答えましょう。



① 下の①のテープの長さは、②のテープの長さの何ばいですか。

答え：

② 上の②のテープの長さは、①のテープの長さの何分のーですか。

答え：



分数7

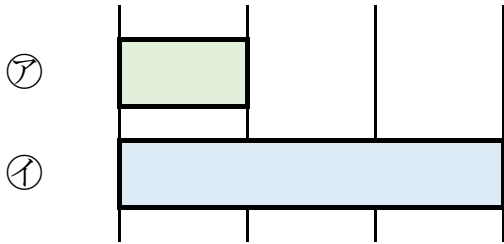
何倍？何分のー？



日にち： 月 日

名まえ _____

1 つぎの図を見てもんだいに答えましょう。



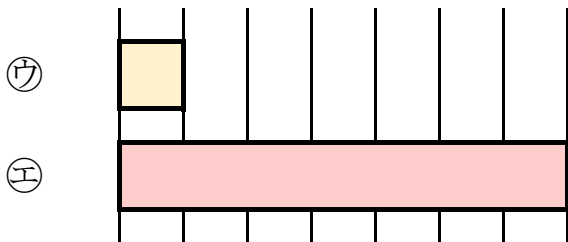
① 下の①のテープの長さは、②のテープの長さの何ばいですか。

答え： 3 ばい

② 上の②のテープの長さは、①のテープの長さの何分のーですか。

答え： $\frac{1}{3}$

2 つぎの図を見てもんだいに答えましょう。



① 下の①のテープの長さは、②のテープの長さの何ばいですか。

答え： 7 ばい

② 上の②のテープの長さは、①のテープの長さの何分のーですか。

答え： $\frac{1}{7}$