

分数5

● 同じ長さに分けた  
テープの1つ分の長さ



日にち：            月            日


名まえ

---

・ つぎのもんだいに答えましょう。

- ① 同じ長さになるように、テープを7つに分けました。  
分けた1つ分の長さは、もとの長さの何分の一ですか。

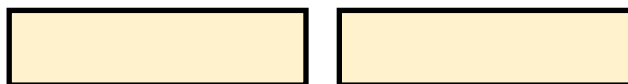
もとの長さ



答え： \_\_\_\_\_

- ② 同じ長さになるように、テープを2つに分けました。  
分けた1つ分の長さは、もとの長さの何分の一ですか。

もとの長さ



答え： \_\_\_\_\_



分数5

◎ 同じ長さに分けた  
テープの1つ分の長さ



日にち：            月            日

名まえ

---

・ つぎのもんだいに答えましょう。

- ① 同じ長さになるように、テープを7つに分けました。  
分けた1つ分の長さは、もとの長さの何分の一ですか。

もとの長さ



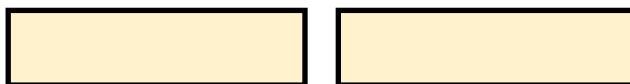
答え：

$\frac{1}{7}$

---

- ② 同じ長さになるように、テープを2つに分けました。  
分けた1つ分の長さは、もとの長さの何分の一ですか。

もとの長さ



答え：

$\frac{1}{2}$

---