



分数 2

色をぬった部分は何分の一？



日にち： 月 日

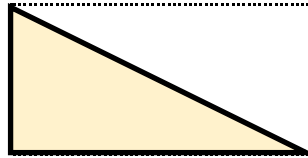
名まえ

・色をぬったぶんはもとの大きさの何分の一ですか。

①




もとの大きさ

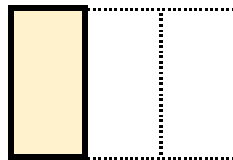


答え：

②



もとの大きさ

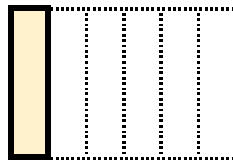


答え：

③




もとの大きさ

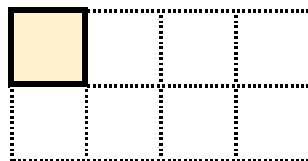


答え：


④



もとの大きさ



答え：



分数 2

色をぬった部分は何分の一？

8

日にち： 月 日

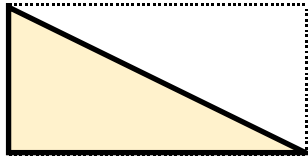
名まえ

・色をぬったぶんはもとの大きさの何分の一ですか。

①




もとの大きさ

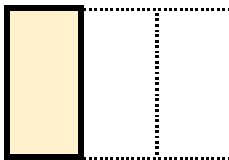


答え： $\frac{1}{2}$

②



もとの大きさ




答え： $\frac{1}{3}$

③




もとの大きさ

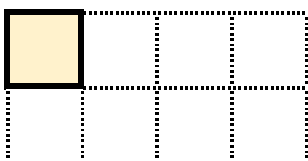


答え： $\frac{1}{6}$

④



もとの大きさ



答え： $\frac{1}{8}$

