



図を使って
考えよう！

● 買った数は何こ？



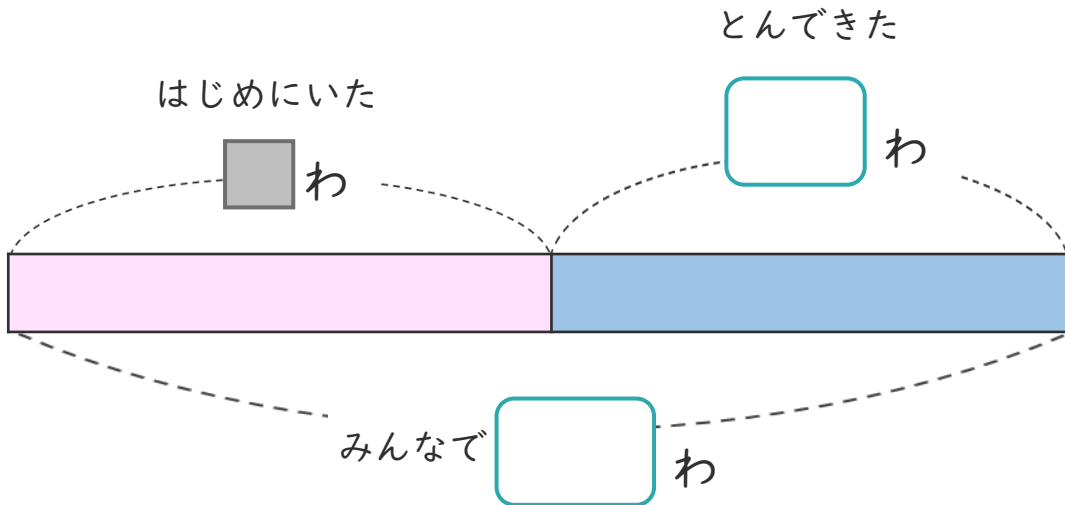
日にち： 月 日

名まえ _____

・ はとが何わかいました。

そこへ16わとんできたので、みんなで33わになりました。

① 下の図の□にあう数を書きましょう。




② はじめにいた はとは何わですか。

しきと答えを書きましょう。

しき (\quad)

答え (\quad)

<筆算スペース>





図を使って
考えよう！

● 買った数は何こ？



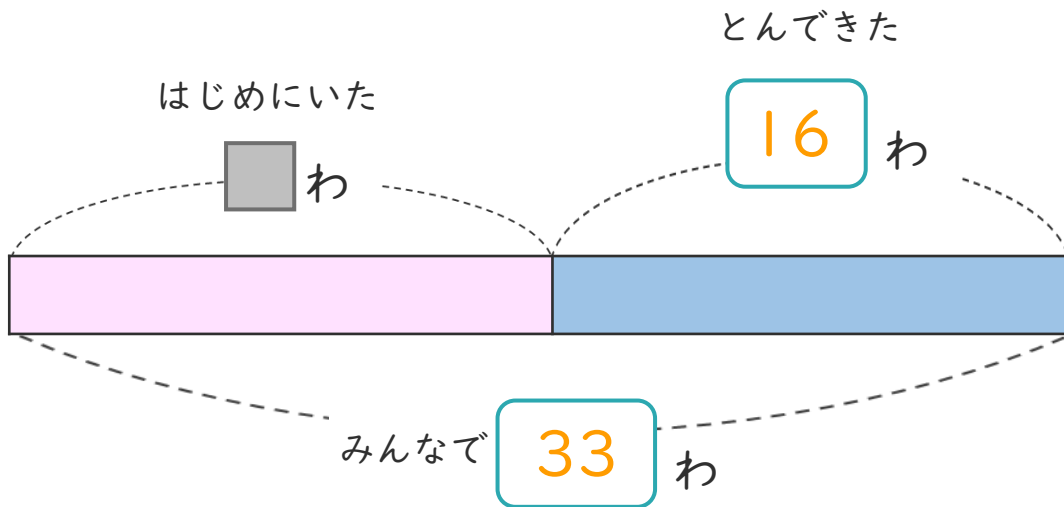
日にち： 月 日

名まえ _____

・ はとが何わかいました。

そこへ16わとんできたので、みんなで33わになりました。

① 下の図の□にあう数を書きましょう。



② はじめにいた はとは何わですか。

しきと 答えを書きましょう。

しき $\left(33 - 16 = 17 \right)$

答え $\left(17 \text{わ} \right)$

<筆算スペース>

