



図を使って
考えよう 4

いろいろなたし算とひき算



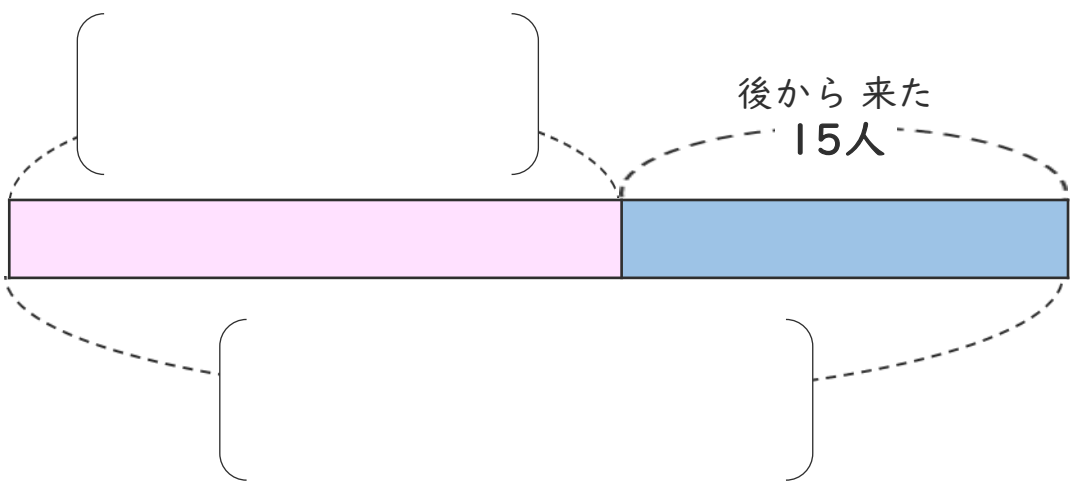
日にち： 月 日

名まえ _____

・ 教室に 何人が います。

後から 15人 来たので みんなで 34人 になりました。

① □ の ことば を つかっ て 図 を かんせい させ まし ょう。



みんなで □人 34人 はじめにいた


② はじめにいたのは 何人 ですか。

しきと 答え を 書い まし ょう。

しき ()

答え ()

<筆算スペース>





図を使って
考えよう 4

いろいろなたし算とひき算



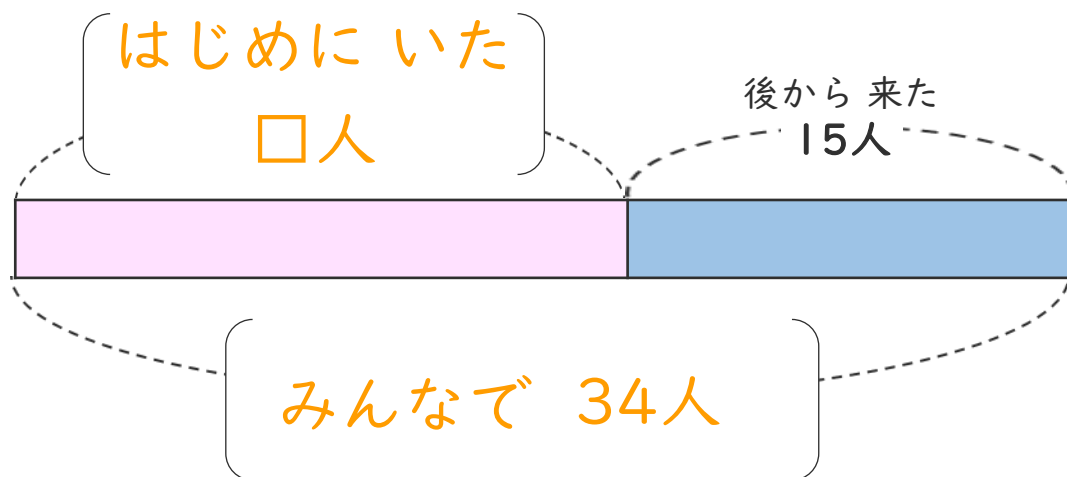
日にち： 月 日

名まえ _____

・ 教室に 何人か います。

後から 15人 来たので みんなで 34人 になりました。

① のことばをつかって 図を かんせい させましょう。



みんなで □人 34人 はじめにいた

② はじめにいたのは 何人 ですか。

しきと 答えを 書きましょう。

しき $\left(34 - 15 = 19 \right)$

答え $\left(19人 \right)$

<筆算スペース>

