



分数3


● もとの大きさの○分の一をさがす



日にち： 月 日

名まえ

1 もとの大きさの $\frac{1}{3}$ はどれですか。



もとの大きさ

㉠



㉡



㉢




㉣



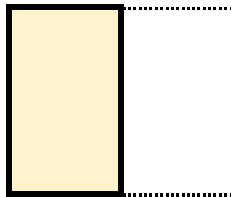
答え：

2 もとの大きさの $\frac{1}{6}$ はどれですか。




もとの大きさ

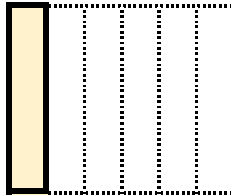
㉠



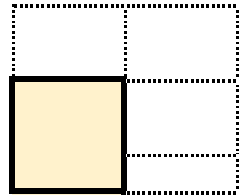
㉡



㉢



㉣



答え：





分数3

● もとの大きさの○分の一をさがす



日にち： 月 日

名まえ

1 もとの大きさの $\frac{1}{3}$ はどれですか。



もとの大きさ

ア




イ



ウ



エ



答え：

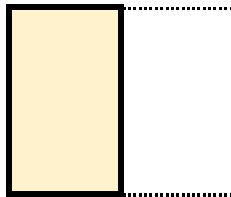
イ

2 もとの大きさの $\frac{1}{6}$ はどれですか。




もとの大きさ

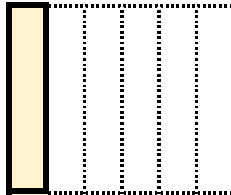
ア



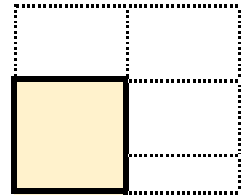
イ



ウ



エ



答え：

ウ

