



分数6

● もとの大きさはいくつ分？




日にち： 月 日

名まえ


・ つぎのもんだいに答えましょう。

① もとの長さの $\frac{1}{7}$ をいくつあつめると、もとの長さになりますか。

もとの長さの $\frac{1}{7}$




もとの長さ




答え：

② もとの長さの $\frac{1}{4}$ をいくつあつめると、もとの長さになりますか。

もとの長さの $\frac{1}{4}$



もとの長さ




答え：

③ もとの長さの $\frac{1}{2}$ をいくつあつめると、もとの長さになりますか。

もとの長さの $\frac{1}{2}$



もとの長さ



答え：



分数6

● もとの大きさはいくつ分？




日にち： 月 日

名まえ

・ つぎのもんだいに答えましょう。

① もとの長さの $\frac{1}{7}$ をいくつあつめると、もとの長さになりますか。

もとの長さの $\frac{1}{7}$




もとの長さ



答え： 7つ

② もとの長さの $\frac{1}{4}$ をいくつあつめると、もとの長さになりますか。

もとの長さの $\frac{1}{4}$



もとの長さ



答え： 4つ

③ もとの長さの $\frac{1}{2}$ をいくつあつめると、もとの長さになりますか。

もとの長さの $\frac{1}{2}$



もとの長さ



答え： 2つ