



長さのたんい 7

● ものさしではかる (mm)

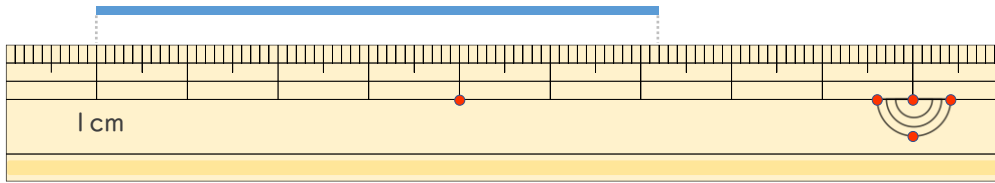


日にち： 月 日

名まえ _____

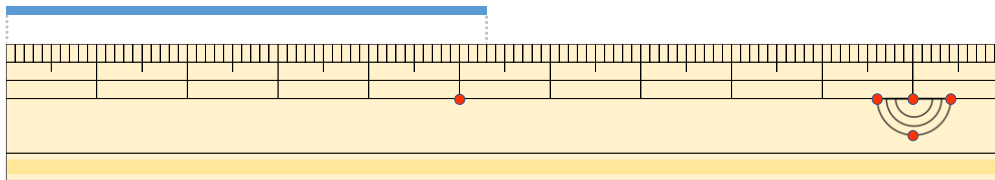
せん なが
・線の長さはどれだけですか。

①



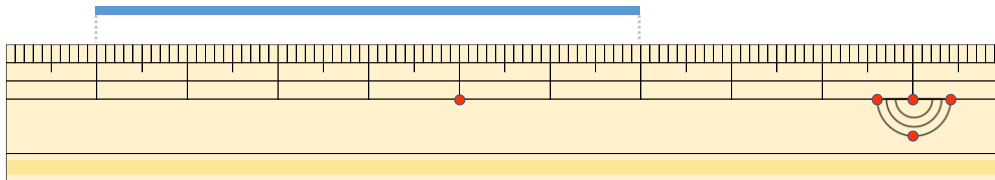
こた
答え ()

②



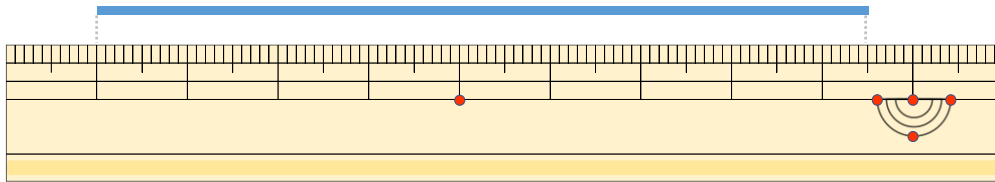
こた
答え ()

③



こた
答え ()

④



こた
答え ()





長さのたんい 7

● ものさしではかる (mm)

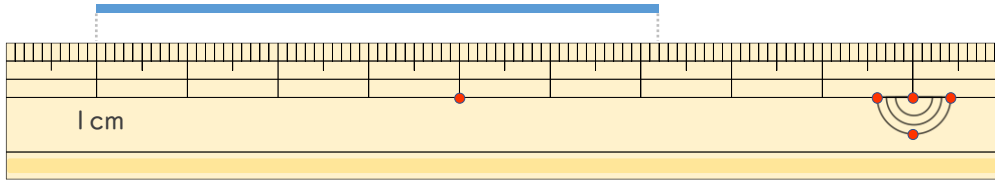


日にち： 月 日

名まえ _____

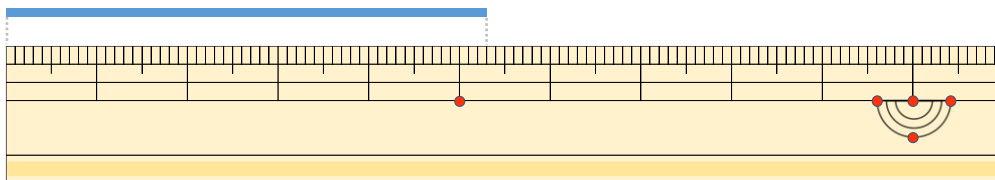
せん なが
・線の長さはどれだけですか。

①



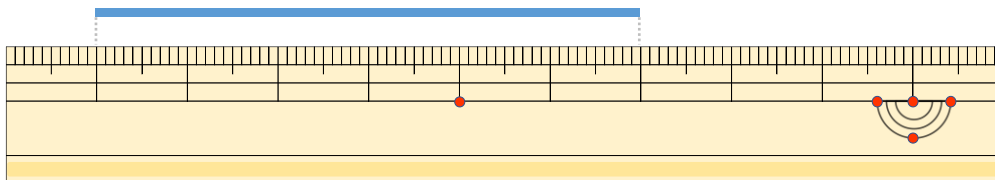
こた
答え (6 cm 2 mm)

②



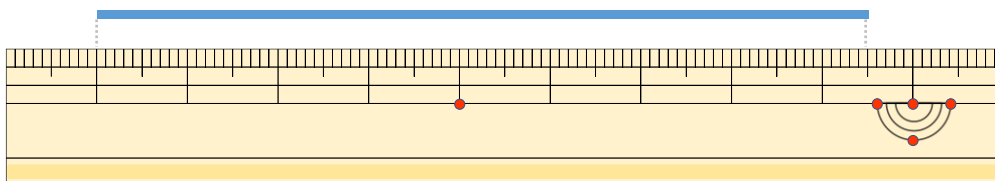
こた
答え (5 cm 3 mm)

③



こた
答え (6 cm)

④



こた
答え (8 cm 5 mm)

